

MATA UJIAN : EKONOMI, SEJARAH, GEOGRAFI DAN IPS TERPADU
 TANGGAL UJIAN : 1 MARET 2009
 WAKTU : 90 MENIT
 JUMLAH SOAL : 75

Keterangan	: Mata Ujian EKONOMI	nomor 1 sampai nomor 20
	Mata Ujian SEJARAH	nomor 21 sampai nomor 40
	Mata Ujian GEOGRAFI	nomor 41 sampai nomor 60
	Mata Ujian IPS TERPADU	nomor 61 sampai nomor 75

EKONOMI

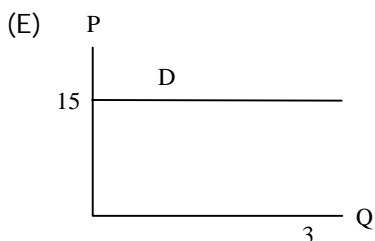
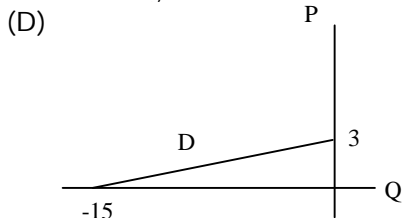
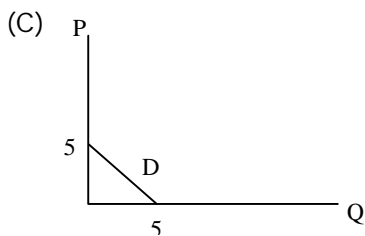
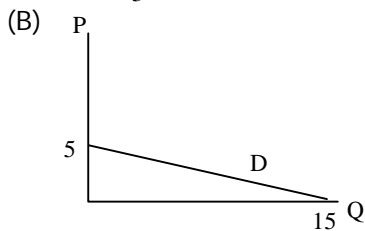
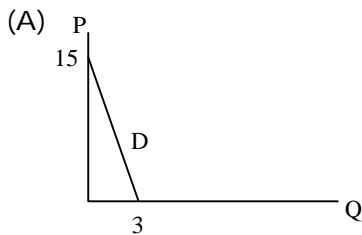
Gunakan **Petunjuk A** dalam menjawab soal nomor 1 sampai nomor 11

1. Apa saja barang dan jasa yang diproduksi sangat dipengaruhi oleh sistem ekonomi. Dalam Sistem Ekonomi Pasar Bebas, barang dan jasa yang akan diproduksi ditentukan oleh ...
 - (A) BUMN
 - (B) Badan Perencanaan Pemerintah
 - (C) mekanisme pasar
 - (D) pemilik modal
 - (E) penawaran
2. Berikut ini merupakan falsafah ajaran dari ekonomi Klasik, *kecuali* ...
 - (A) menggunakan pendekatan marginal
 - (B) pereconomian dalam keadaan *full employment*
 - (C) fleksibilitas harga yang diserahkan kepada mekanisme pasar
 - (D) uang hanya sebagai alat mempermudah transaksi
 - (E) *laissez faire, laissez passer*
3. Kebijakan perdagangan internasional pemerintah Jepang yang dikenal dengan politik *dumping* adalah ...
 - (A) menjual barang yang sama di dalam negeri lebih murah jika dibandingkan dijual di negara lain
 - (B) menukarkan barang produk Jepang dengan barang produk negara lain yang lebih murah
 - (C) membeli barang dari negara lain yang lebih murah dibandingkan barang produksi sendiri
 - (D) menjual barang yang sama di dalam negeri lebih mahal jika dibandingkan dijual di negara lain
 - (E) Jepang hanya mau membeli barang produk negara lain jika negara tersebut juga membeli barang produk Jepang
4. Pada tahun 1950, Pemerintah RI pernah melakukan kebijakan yang dikenal dengan kebijakan gunting Sjafrudin, yaitu uang yang nilainya Rp 5,00 ke atas nilainya dipotong 50%. Hal ini merupakan kebijakan moneter yang dinamakan ...
 - (A) kebijakan kredit selektif
 - (B) kebijakan uang ketat
 - (C) kebijakan sanering
 - (D) kebijakan cadangan kas
 - (E) politik diskonto
5. Suatu perusahaan memproduksi 7 unit output dengan *average total cost* sebesar Rp15.000,00. Agar mampu memproduksi perusahaan harus mengeluarkan *fixed cost* sebesar Rp35.000,00. Maka, besarnya *average variable cost* adalah ...
 - (A) Rp 5.000,00
 - (B) Rp10.000,00
 - (C) Rp15.000,00
 - (D) Rp20.000,00
 - (E) Rp25.000,00

6. Perhatikanlah fenomena berikut ini:
Ketika harga naik dari Rp 100,00 per satuan menjadi Rp 110,00 per satuan, permintaan atas barang tersebut turun dari 500 unit menjadi 450 unit. Koefisien elastisitas permintaan atas barang tersebut dalam nilai absolut adalah ...

(A) 1,0
(B) 0,5
(C) 0,2
(D) 0,1
(E) 0,02

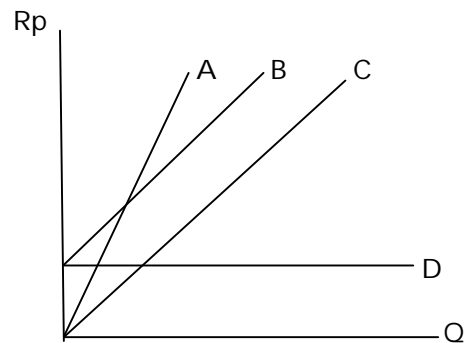
7. Diketahui permintaan suatu barang adalah $P = -(1/3)Q + 5$, maka kurva permintaannya tersebut adalah ...



8. Kenaikan harga barang X yang mengakibatkan turunnya pembelian barang Y. Kondisi ini menunjukkan bahwa hubungan antara X dan Y merupakan ...

(A) barang Giffen
(B) barang inferior
(C) barang substitusi
(D) barang komplementer
(E) barang normal

9. Perhatikanlah kurva titik impas berikut ini:



Berdasarkan kurva tersebut di atas, maka jika perusahaan menaikkan harga penjualan maka ...

(A) kurva B akan bergeser ke atas
(B) kurva A akan bergeser ke atas
(C) kurva D akan naik
(D) kurva D akan turun
(E) kurva A semakin curam

10. Dalam neraca sisa PD Agung terdapat akun persediaan barang dagangan sebesar Rp.6.000.000,00. Data penyesuaian pada akhir periode menyatakan bahwa persediaan barang adalah sebesar Rp.7.000.000,00. Jika PD Agung menggunakan pendekatan HPP maka jurnal penyesuaian yang benar untuk transaksi tersebut adalah ...

(A)	Persediaan barang dagangan HPP	Rp6.000.000,00	-	
	HPP	-	Rp6.000.000,00	
	Persediaan barang dagangan	Rp7.000.000,00	-	Rp7.000.000,00
(B)	Persediaan barang dagangan HPP	Rp7.000.000,00	-	
	HPP	-	Rp7.000.000,00	
	Persediaan barang dagangan	Rp6.000.000,00	-	Rp6.000.000,00
(C)	Persediaan barang dagangan HPP	Rp13.000.000,00	-	
	HPP	-	Rp13.000.000,00	
(D)	HPP	Rp13.000.000,00	-	
	Persediaan barang dagangan	-	Rp13.000.000,00	
(E)	Persediaan barang dagangan HPP	Rp1.000.000,00	-	
	HPP	-	Rp1.000.000,00	

11. Berikut ini adalah data-data keuangan yang dimiliki PT. Terang Bulan tahun 2007:

· Persediaan 1 Januari 2007	Rp12.500.000
· Pembelian	Rp34.000.000
· Retur pembelian	Rp 6.000.000
· Potongan pembelian	Rp 4.500.000
· Retur penjualan	Rp 3.000.000
· Potongan penjualan	Rp 1.500.000
· Persediaan 31 Desember 2007	Rp 9.300.000

Berdasarkan data-data tersebut di atas, maka HPP PT. Terang Bulan untuk tahun 2007 adalah ...

- (A) Rp37.200.000
(B) Rp26.700.000
(C) Rp25.200.000
(D) Rp23.700.000
(E) Rp22.200.000

Gunakan **Petunjuk B** dalam menjawab soal nomor 12 sampai nomor 16

12. *Ownership utility* adalah kegunaan sebuah barang apabila dimiliki secara tepat oleh orang yang bisa memakainya, atau dengan kata lain, jika dimiliki oleh pihak lain akan berbahaya.

SEBAB

Payung yang dipakai pada saat hujan adalah salah satu contoh *time utility*.

13. Pemberantasan pungutan liar yang dilakukan oleh berbagai instansi pemerintah adalah salah satu bentuk dari ekstensifikasi.

SEBAB

Perluasan produksi secara ekstensifikasi adalah dengan cara menambah jumlah (kuantitas) dan meningkatkan kualitas dari faktor produksi.

14. Pergerakan sepanjang kurva permintaan menggambarkan perubahan jumlah barang yang diminta karena perubahan harga barang itu sendiri.

SEBAB

Permintaan suatu barang mempunyai hubungan searah dengan harga barang tersebut.

15. Dalam pasar persaingan sempurna harga ditentukan oleh permintaan dan penawaran.

SEBAB

Dalam jangka pendek keuntungan maksimum dalam pasar persaingan sempurna akan diperoleh pada saat Marginal Revenue sama dengan Marginal Cost ($MR=MC$).

16. Banyaknya jumlah uang beredar dalam perekonomian dapat menyebabkan inflasi.

SEBAB

Tugas BI sebagai Bank Sentral adalah mengendalikan tingkat inflasi dengan mengatur jumlah uang beredar.

Gunakan **Petunjuk C** dalam menjawab soal nomor 17 sampai nomor 20

17. Investasi dibedakan atas investasi otonom (*autonomous investment*) dan investasi terimbas (*induced investment*). Berikut ini yang termasuk investasi otonom adalah ...

- (1) pengembangan saluran irigasi
- (2) INPRES Desa Tertinggal
- (3) Pembangunan bendungan
- (4) Pembangunan hotel

18. Jika BI meningkatkan rasio cadangan wajib minimum, maka ...

- (1) jumlah cadangan devisa berkurang
- (2) kemampuan bank menciptakan kredit berkurang
- (3) dana menganggur bertambah
- (4) uang beredar berkurang

19. Manakah dari kasus-kasus berikut yang merupakan motif seseorang untuk memiliki uang tunai menurut JM Keynes?

- (1) Pak Rudi selalu menyimpan uang tunai yang cukup di rumahnya untuk berjaga-jaga kalau ada keluarga yang jatuh sakit.
- (2) Tante Sony setiap pergi selalu membawa uang tunai yang cukup banyak agar orang lain menganggap dirinya orang yang kaya.
- (3) Ibu Rusna menyimpan uang tunai yang cukup untuk tujuan membeli barang kebutuhan selama sebulan.
- (4) Ani menyimpan uang logam dari jaman Presiden Sukarno untuk koleksi.

20. Kebijakan moneter adalah kebijakan pemerintah melalui Bank Sentral dalam hal mengatur ...

- (1) tingkat bunga bank
- (2) jual beli surat-surat berharga
- (3) jumlah uang yang beredar
- (4) batas cadangan minimal perbankan

SEJARAH

Gunakan **Petunjuk A** dalam menjawab soal nomor 21 sampai nomor 30

21. Masyarakat Indonesia pada masa perundagian telah mengenal aturan pembagian kerja, karena ...
- (A) mereka telah hidup menetap
 - (B) merupakan masyarakat dengan kehidupan *food producing*
 - (C) teknologi perundagian memerlukan tenaga yang memiliki keahlian khusus
 - (D) budaya undagi dapat diproduksi oleh masyarakat yang telah maju
 - (E) hidup dalam kelompok-kelompok suku
22. Sultan Hasanuddin adalah salah satu Raja Gowa yang terkenal. Ia juga mendapat julukan "Ayam Jantan dari Timur" karena ...
- (A) keberaniannya menentang pasukan VOC
 - (B) mengacaukan pelayaran perdagangan Belanda
 - (C) membantu perjuangan rakyat Maluku menentang Belanda
 - (D) membebaskan rakyat dari penindasan Belanda
 - (E) berjuang untuk menegakkan keadilan dan kesejahteraan
23. Pada tahun 1808, Herman Wilhelm Daendels dikirim menjadi Gubernur Jenderal Hindia Belanda yang baru, Daendels merupakan Gubernur Jenderal yang dikirim oleh kekuatan politik atau negara yang telah menguasai Belanda, yaitu ...
- (A) Inggris
 - (B) Jerman
 - (C) Austria
 - (D) Spanyol
 - (E) Perancis
24. Cokroaminoto sebagai salah seorang pemimpin Sarekat Islam menyatakan bahwa tujuan Sarekat Islam pada awal berdirinya adalah ...
- (A) mendirikan negara Islam
 - (B) mengusir penjajah Belanda
 - (C) merdeka di bawah naungan Uni Belanda
 - (D) menghidupkan jiwa dagang bangsa Indonesia
 - (E) semuanya betul
25. Pada masa pendudukan Jepang dibentuk lembaga propaganda yang dipimpin oleh empat serangkai Soekarno, Hatta, Mas Mansur dan Ki Hajar Dewantara. Nama organisasi tersebut adalah ...
- (A) Gerakan 3A
 - (B) PUTERA
 - (C) Tonarigumi
 - (D) Chuo Sangi In
 - (E) Hakko I Chiu
26. Pada tanggal 9 Agustus 1945 tiga tokoh pergerakan nasional yaitu Ir. Soekarno, Drs. Moh Hatta, dan dr. Radjiman Wediodiningrat dipanggil Marsekal Terauchi untuk membicarakan hal-hal mengenai kemerdekaan Indonesia. Tempat pertemuan ketiga tokoh pergerakan nasional dengan Marsekal Terauchi berlangsung di ...
- (A) Kediaman Maeda di Jakarta
 - (B) Dalat (Vietnam)
 - (C) Pulau Penang (Malaysia)
 - (D) Singapura
 - (E) Pulau Banda
27. Pada tanggal 13 Desember 1957, PM. Djuanda menyatakan deklarasi yang dikenal "Deklarasi Djuanda", isi pokok deklarasi tersebut adalah ...
- (A) persatuan partai-partai politik
 - (B) deklarasi partai pemenang pemilu
 - (C) deklarasi keamanan Indonesia
 - (D) deklarasi Berdikari
 - (E) pernyataan bahwa laut antara pulau-pulau di seluruh perairan Indonesia merupakan wilayah integral RI

28. Pada tanggal 15 Januari 1962 terjadi pertempuran di laut Arafuru antara Tentara Nasional Indonesia dengan Tentara Belanda. Dalam peristiwa itu gugur seorang perwira tinggi TNI ...

- (A) Yos Sudarso
- (B) Ahmad Yani
- (C) AH.Nasution
- (D) Soepomo
- (E) Sudirman

29. Realisasi pada integrasi ekonomi Eropa melalui pasar tunggal Eropa secara resmi mulai diterapkan tanggal 1 Januari 1993. Pada tahun 2001 Mata Uang Bersama Eropa (EURO) mulai dipergunakan. Salah satu negara anggota Masyarakat Ekonomi Eropa yang tetap menggunakan mata uangnya sendiri yaitu ...

- (A) Jerman
- (B) Inggris
- (C) Perancis
- (D) Belanda
- (E) Spanyol

30. Sebelum Kaisar Matsuhito berkuasa secara penuh pada pertengahan abad ke-19, Jepang dikuasai oleh ...

- (A) Daimyo
- (B) Warlords
- (C) Samurai
- (D) Bakufu
- (E) Shogun

Gunakan **Petunjuk B** dalam menjawab soal nomor 31 sampai nomor 36

31. Pada awal abad ke-19 gerakan kaum Wahabiah dengan puritanismenya melanda Sumatera Barat.

SEBAB

Gerakan Wahabiah pada awal abad ke-19 ingin membersihkan kehidupan agama Islam dari pengaruh kebudayaan setempat yang dianggap menyalahi ajaran-ajaran agama Islam.

32. Pengangkatan Sultan Tidore, Zainal Abidin Syah sebagai gubernur pertama Irian Barat pada tahun 1956 adalah tindakan politis.

SEBAB

Sejak abad ke-19 Irian Barat berada dalam kekuasaan kerajaan Tidore.

33. Dalam pengadilan kolonial di Bandung, Sukarno membacakan pledoinya yang berjudul Indonesia Jaya pada tahun 1930.

SEBAB

Soekarno ditangkap bersama-sama teman-temannya tahun 1929 karena dianggap menghasut penduduk memberontak kepada Belanda.

34. Pada 1932 pemerintah Hindia Belanda memberlakukan *wilde schoolen ordonantie*. Suatu peraturan mengenai diwajibkannya bangsa Indonesia bersekolah sesuai dengan kebijakan politik etis.

SEBAB

Pada awal abad 20, Pemerintah Hindia Belanda memandang bahwa sekolah yang dikelola oleh pribumi telah menanamkan nasionalisme yang dapat membahayakan kedudukan Belanda di Indonesia.

35. Masalah Kamboja menjadi semakin kompleks dengan adanya campur tangan pihak-pihak tertentu seperti RRC dan Vietnam.

SEBAB

Penyelesaian masalah Kamboja dilakukan di Jakarta Informal Meeting (JIM) pada tahun 1988 di kota Bandung.

36. Peristiwa Madiun yang meletus pada September 1948, dilakukan oleh kelompok Front Demokrasi Rakyat pimpinan Amir Syarifuddin dan Musso.

SEBAB

Kelompok kiri menolak kebijakan Hatta yang melakukan rasionalisasi dan reorganisasi kelasykaran bersenjata yang merugikan kelompok kiri.

Gunakan **Petunjuk C** dalam menjawab soal nomor 37 sampai nomor 40

37. Faktor-faktor yang menyebabkan terjadinya "Perang Bubat" tahun 1357 antara Majapahit melawan Pajajaran, antara lain ...

- (1) Gajah Mada tidak menghendaki perkawinan Hayam Wuruk dengan putri Sunda Diah Pitaloka
- (2) Gajah Mada ingin menaklukan kerajaan Sunda.
- (3) Putri Sunda Diah Pitaloka dianggap sebagai persembahan takluknya kerajaan Sunda
- (4) Gajah Mada ingin menaklukan kerajaan Sunda tanpa kekerasan, maka digunakan siasat perkawinan

38. Tokoh-tokoh di bawah ini adalah tokoh-tokoh nasionalistis yang aktif dalam organisasi politik Islam ...

- (1) Abdul Muis
- (2) Cokroaminoto
- (3) Agus Salim
- (4) Ahmad Dahlan

39. Kebijakan ekonomi liberal yang berlaku sejak 1870 memunculkan banyak perkebunan swasta, yang berakibat ...

- (1) munculnya perkebunan swasta diseluruh Hindia Belanda
- (2) munculnya kelompok buruh perkebunan
- (3) munculnya kaum pengusaha pribumi
- (4) munculnya alat transportasi kereta api

40. Harga minyak dunia banyak ditentukan oleh OPEC (organisasi negara-negara pengekspor minyak). Akan tetapi, tidak semua negara Asia penghasil minyak bergabung dalam OPEC. Di antara negara Asia yang bergabung dengan OPEC adalah ...

- (1) Malaysia
- (2) Indonesia
- (3) Bahrain
- (4) Irak

GEOGRAFI

Gunakan **Petunjuk A** dalam menjawab soal nomor 41 sampai nomor 50

41. Peranan cuaca dan iklim di bidang pertanian sangat dipertimbangkan dalam kaitannya dengan ...

(A) kualitas dan nilai jual tanaman
(B) kualitas dan kuantitas tanaman
(C) jenis tanaman dan kualitas tanaman
(D) musim tanam dan ukuran tanaman
(E) musim tanam dan jenis tanaman

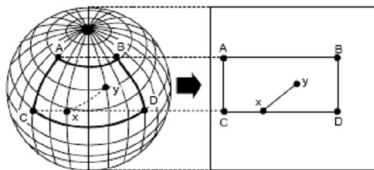
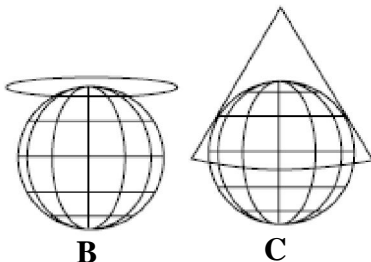
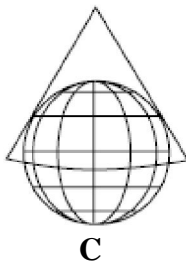
42. Pada peta tanpa skala, diketahui jarak A-B adalah 5 cm. Pada peta dengan skala 1 : 100.000, jarak yang sama adalah 20 cm. Maka skala peta A-B adalah ...

(A) 1 : 150.000
(B) 1 : 200.000
(C) 1 : 400.000
(D) 1 : 600.000
(E) 1 : 100.000

43. Teori gravitasi dari Reilly merupakan teori yang menggambarkan ...

(A) pengukuran jarak antar kota
(B) penghitungan biaya transportasi antar kota
(C) perbandingan jumlah penduduk antar kota
(D) penghitungan lama perjalanan antar kota
(E) kekuatan interaksi antar kota

44. Perhatikan model proyeksi berikut ini.

**A****B****C**

Dalam hal akurasi penggambaran bumi, setiap model proyeksi memiliki karakter khusus yaitu ...

(A) model A cocok untuk menggambarkan wilayah kutub dan sekitarnya
(B) model B cocok untuk menggambarkan wilayah kutub dan sekitarnya
(C) model C cocok untuk menggambarkan wilayah kutub dan sekitarnya
(D) model A cocok untuk menggambarkan wilayah kutub dan khatulistiwa
(E) model C cocok untuk menggambarkan wilayah kutub dan khatulistiwa

45. Para petani dianjurkan melakukan rotasi tanaman di tanah pertanian, dengan tujuan ...

(A) mempertahankan kesuburan tanah
(B) meningkatkan mutu produksi
(C) efisiensi penggunaan tanah
(D) meningkatkan produktivitas tanah
(E) mempertahankan intensifikasi tanah

46. Pemusatan penduduk di kawasan Asia Tenggara terdapat di wilayah ...

(A) dataran tinggi pedalaman
(B) dataran rendah pantai
(C) lembah sungai
(D) pantai-pantai dataran tinggi
(E) dataran rendah pedalaman

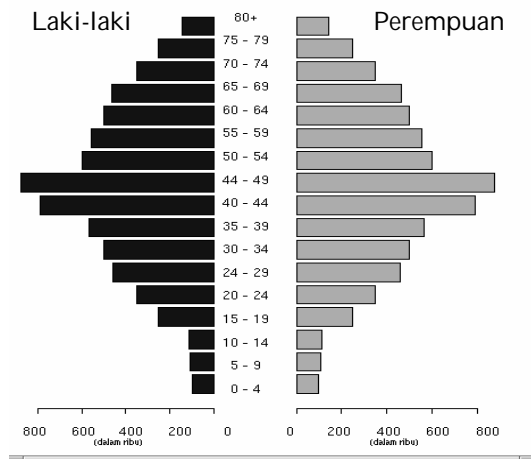
47. Variasi relief dasar laut tidak sebesar relief di darat karena ...

(A) pengaruh adanya arus bawah laut yang cukup kuat.
(B) seringnya terjadi gempa di laut.
(C) ketebalan kerak bumi di laut lebih tipis dibanding di darat.
(D) erosi dan sedimentasi lebih kuat dibanding di darat.
(E) erosi dan sedimentasi lebih lemah dibanding di darat.

48. Negara-negara yang tergolong maju dalam penerapan teknologi pertanian di kawasan Asia Tenggara dan Asia Timur adalah ...

- (A) Korea Selatan, Thailand, dan Jepang
- (B) Indonesia, Korea Selatan dan Cina
- (C) Korea Utara, Malaysia, Indonesia
- (D) Cina, Indonesia dan Vietnam
- (E) Thailand, Jepang, dan Vietnam

49. Perhatikan gambar piramida penduduk di bawah ini!



Berdasarkan gambar piramida penduduk *stasioner* di atas dapat disimpulkan bahwa jumlah penduduk yang berusia ...

- (A) belum produktif lebih besar dari yang berusia produktif
- (B) muda seimbang dengan penduduk usia tua
- (C) tidak produktif sama dengan yang berusia produktif
- (D) belum produktif sama dengan yang berusia produktif
- (E) muda lebih banyak daripada usia tua

50. Semua pernyataan di bawah ini BENAR, kecuali ...

- (A) cuaca adalah kondisi atmosfer di suatu daerah yang selalu berubah-ubah
- (B) cuaca, iklim dan musim sama-sama menyatakan kondisi atmosfer
- (C) musim adalah kondisi atmosfer di suatu selama periode tertentu
- (D) iklim adalah kondisi atmosfer di suatu daerah yang sempit dan cenderung berubah
- (E) iklim adalah kondisi atmosfer di suatu daerah yang relatif tetap

Gunakan **Petunjuk B** dalam menjawab soal nomor 51 sampai nomor 54

51. Relokasi industri ke negara berkembang, bertujuan untuk menghemat biaya produksi dan biaya angkut.

SEBAB

Bahan bakunya berasal dari negara berkembang.

52. Eratosthenes menyatakan bahwa geografi adalah ilmu pengetahuan yang menggambarkan tentang keadaan bumi.

SEBAB

Pada awal perkembangannya geografi hanya menceritakan kisah perjalanan para penjelajah dari berbagai penjuru dunia.

53. Tanah yang ideal untuk pertanian adalah tanah geluh (tanah yang lekat) dengan komposisi testurnya: 20% lempung, 30-50% lanau, dan 30-50% pasir.

SEBAB

Tanah geluh dapat menampung air dengan baik/mudah, tetapi daya serap terhadap air kecil.

54. Geografi absolut adalah kajian ilmu geografi yang menggunakan matematika guna menjelaskan bentuk, dimensi, ukuran dan berbagai fakta lain.

SEBAB

Ilmu geografi mempelajari bentuk, ukuran dan dimensi dari permukaan bumi.

Gunakan **Petunjuk C** dalam menjawab soal nomor 55 sampai nomor 60

55. Konversi lahan pertanian menjadi wilayah bermukim dapat mengakibatkan ...

- (1) peningkatan suhu udara
- (2) penurunan ketersediaan air tanah
- (3) bermigrasinya beberapa spesies hewan
- (4) banjir

56. *Sungai Siak* dari dahulu hingga sekarang menjadi urat nadi perhubungan air di Propinsi Riau, karena ...
- (1) arus airnya tenang
 - (2) melintasi kota Pekanbaru
 - (3) memiliki dasar sungai yang dalam
 - (4) volume airnya stabil sepanjang tahun
57. Secara umum flora di Indonesia memiliki karakteristik ...
- (1) jumlah spesies tumbuhannya banyak
 - (2) mempunyai daun yang umumnya selalu hijau
 - (3) hanya sedikit yang memperlihatkan adanya pengaruh musim gugur
 - (4) banyak dijumpai tumbuhan endemik
58. Dampak yang dapat ditimbulkan dari gejala pemanasan global adalah ...
- (1) areal gurun pasir menjadi bertambah luas
 - (2) terjadi kenaikan permukaan air laut
 - (3) kondisi cuaca/musim menjadi kurang stabil
 - (4) terjadi fluktuasi produksi pertanian sehingga suplai bahan makanan terganggu
59. Menurut teori gravitasi, kekuatan interaksi antar wilayah ditentukan oleh ...
- (1) jenis kebutuhan
 - (2) jumlah penduduk antar tempat
 - (3) waktu tempuh antar tempat
 - (4) jarak antar tempat
60. Pemrosesan data spasial (keruangan) dalam sistem informasi geografis yaitu ...
- (1) pengubahan skala
 - (2) pengubahan sistem proyeksi
 - (3) penambahan atribut data
 - (4) klasifikasi

IPS TERPADU**PUPUK**

Kekurangan pupuk terjadi di Kalimantan Tengah (Kalteng). Dinas Pertanian dan Kehewanan Kalteng memperkirakan kekurangan pupuk bersubsidi di daerah itu mencapai 37,5 ribu ton. Dari kuota pupuk yang diberikan pemerintah pada 2008 ini, sekitar 12,5 ribu ton untuk jenis urea sangatlah tidak cukup apabila dibandingkan dengan kebutuhan daerah yang mencapai 50 ribu ton.

Sementara itu, cadangan pupuk jenis urea di Kabupaten Sukoharjo, Jawa Tengah, mengalami kekurangan hingga 1.057,8 ton. Secara keseluruhan kebutuhan pupuk hingga Desember 2008 sebanyak 6.861,2 ton. Namun yang tersedia adalah sisa dari kebutuhan musim tanam lalu, yaitu hanya 5.803,4 ton.

Kelangkaan pupuk juga terjadi di Kabupaten Bangkalan, Jawa Timur, sejak pekan terakhir. Kondisi terparah terjadi di Kecamatan Modung, di mana selain pupuk sulit didapat, harganya juga naik dari Rp1.200,00 per kilogram menjadi Rp1.600,00 sampai Rp1.800,00. Sejumlah petani di Modung terpaksa mencari pupuk urea ke kecamatan lain yang masih memiliki persediaan, namun pupuknya juga terbatas karena para distributor terpaksa membatasi penjualan karena minimnya persediaan.

Gunakan **Petunjuk A** dalam menjawab soal nomor 61 sampai nomor 64

61. Bahasa Dayak yang kini masih paling banyak digunakan oleh masyarakat di Kalimantan Tengah adalah bahasa ...

- (A) Dayak Katingan
- (B) Dayak Malayik
- (C) Dayak Ngaju
- (D) Dayak Otdanum
- (E) Dayak Rungan

62. Kehidupan di daerah pesisir yang kebutuhan pupuknya mencapai 50.000 ton seperti pada bacaan sangat dipengaruhi oleh ...

- (A) lapisan endapan vulkanik
- (B) lapisan tanah gambut
- (C) batu gamping
- (D) lapisan endapan non organik
- (E) lapisan alluvial

63. Jika angka dalam ribu ton dari kekurangan pupuk dan subsidi pupuk di Kalimantan Tengah merupakan dua suku pertama dari deret geometri tak hingga, maka jumlah deret tersebut adalah ...

- | | |
|-----------|-----------|
| (A) 8,33 | (D) 37,5 |
| (B) 18,75 | (E) 56,25 |
| (C) 25 | |

64. Bila komoditas yang dibahas dalam bacaan di atas diserahkan pada mekanisme pasar (*ceteris paribus*), maka keadaan yang digambarkan bacaan tersebut menyebabkan ...

- (A) harga keseimbangan naik, kuantitas keseimbangan meningkat
- (B) harga keseimbangan naik, kuantitas keseimbangan menurun
- (C) harga keseimbangan turun, kuantitas keseimbangan meningkat
- (D) harga keseimbangan turun, kuantitas keseimbangan menurun
- (E) tidak ada pengaruh terhadap harga dan kuantitas keseimbangan

Gunakan **Petunjuk B** dalam menjawab soal nomor 65

65. Pulau di mana terletak kabupaten Bangkalan pernah melahirkan seorang pahlawan nasional Untung Suropati yang memerangi VOC dan Amangkurat II.

SEBAB

Amangkurat II Raja Mataram memiliki hubungan yang baik dengan VOC.

IKAN HIAS

Indonesia memiliki tidak kurang dari 3.500 spesies ikan hias air tawar yang tersebar di seluruh penjuru Tanah Air. Pasar ikan hias juga tidak pernah jenuh. Selain keanekaragaman spesies, ikan hias memiliki keunggulan komparatif jika dijalankan sebagai kegiatan usaha yang digarap secara serius.

Tahun 2006, Indonesia menempati peringkat ketiga eksportir ikan hias dunia dengan pangsa pasar 7,5 persen. Posisi Indonesia masih berada di bawah Singapura dengan pangsa pasar 22,5 persen dan Malaysia dengan pangsa pasar 10 persen. Total nilai ekspor ikan hias Indonesia tahun lalu sebesar 8,17 juta dollar AS atau turun dibandingkan dengan tahun 2006 yang sebesar 13,8 juta dollar AS.

Beberapa spesies ikan hias air tawar asli Indonesia sebenarnya memiliki tempat khusus di pasar internasional, seperti arwana (*Scleropages formosus*) jenis *super red*, ikan cupang (*Beta splendens*), dan botia (*Botia macracantha*).

Potensi perairan laut untuk usaha budidaya mencapai 8,7 juta hektar dengan produksi 47 juta ton per tahun. Akan tetapi, potensi budidaya perairan laut yang tergarap baru sekitar 10 persen.

Gunakan **Petunjuk A** dalam menjawab soal nomor 66 sampai nomor 68

66. Diketahui segitiga ABC dengan titik A (% ekspor Indonesia, 0), titik B (0, % ekspor Singapura) dan titik C (% ekspor Malaysia, % ekspor Indonesia). Persamaan garis yang melalui titik B dan C adalah ...

- (A) $3y - 2x = 45$
- (B) $3y + 2x = 45$
- (C) $2y - 3x = 45$
- (D) $2y + 3x = 45$
- (E) $y - 2x = 45$

67. Dengan mengacu pada alinea kedua bacaan di atas, dengan asumsi nilai ekspor sebanding dengan pangsa pasar maka total nilai ekspor negara Singapura pada tahun 2006 adalah ...

- (A) 24,51 juta dolar AS
- (B) 28,5 juta dolar AS
- (C) 32,76 juta dolar AS
- (D) 39,6 juta dolar AS
- (E) 41,4 juta dolar AS

68. Dari bacaan di atas dapat diketahui bahwa pasar komoditas internasional yang menjadi topik pembahasan merupakan ...

- (A) pasar persaingan sempurna
- (B) pasar persaingan murni
- (C) pasar persaingan monopolistic
- (D) pasar monopoli
- (E) pasar oligopoli

Gunakan **Petunjuk B** dalam menjawab soal nomor 69

69. Ikan jenis *super red* seperti pada bacaan tidak dijumpai di perairan air tawar Sulawesi.

SEBAB

Antara Kalimantan dan Sulawesi terdapat garis Wallace.

Gunakan **Petunjuk C** dalam menjawab soal nomor 70

70. Negara yang memiliki pangsa pasar ikan hias tertinggi seperti tertera dalam bacaan pada tahun 1963 diserahkan oleh Inggris kepada Persekutuan Tanah Melayu untuk membentuk sebuah Federasi Malaysia. Wilayah lain yang diserahkan oleh Inggris terkait kesepakatan tersebut adalah ...

- (1) Kelantan
- (2) Sabah
- (3) Johor
- (4) Sarawak

TARIF ANGKUT KAPAL LAUT

Tarif angkut atau *freight* kapal laut kategori besar, seperti Panamax (maskapai angkutan Belanda) berbobot 60.000 *dead weight ton*-70.000 DWT, turun hingga 80 persen. Penurunan tarif ini dipicu anjloknya volume dan harga komoditas yang diangkut sebagai imbas dari krisis global.

Pada tahun 2006 harga sewa kapal Panamax sekitar 15.000 dollar AS per hari, pertengahan tahun 2007 sekitar 40.000 dollar AS per hari, sebelum menjadi 60.000 dollar AS per hari pada awal 2008. Tetapi, kini harga sewa kapal turun drastis hingga kisaran 12.000-15.000 dollar AS per hari.

Penurunan tarif angkut itu dialami perusahaan pelayaran nasional. Selain volume muatan turun, kebanyakan kapal juga pulang dalam keadaan kosong. Saat ini, berembus optimisme di kalangan pengusaha pelayaran atas informasi adanya stimulus ekonomi dari negara-negara di Eropa dan Amerika. Ketika stimulus berhasil merangsang ekonomi, tarif angkut diharapkan naik.

Saat ini, kapal berbendera Indonesia berjumlah 7.500 unit. Pada tahun 2010, diharapkan ada tambahan kapal baru sebanyak 1.470 unit. Pada tahun 2008, volume komoditas yang diangkut mencapai 700 juta ton dengan pertumbuhan 10 persen per tahun.

Gunakan **Petunjuk A** dalam menjawab soal nomor 71 sampai nomor 72

71. Alur pelayaran untuk menuju ke negara-negara di bagian selatan dari benua yang disebut pertama pada bacaan adalah selat ...

- (A) Bosporus
- (B) Tores
- (C) Dover
- (D) Gibraltar
- (E) Lawrence

72. Misalkan semua angka dalam dollar AS pada alinea kedua merupakan data dengan rata-rata \bar{x} dan jangkauan j . Untuk mempermudah perhitungan setiap nilai dikurangi 10.000 kemudian dibagi 1000, maka rata-rata dan jangkauan data yang baru adalah ...

- (A) 18,4 dan 48
- (B) 18,4 dan 38
- (C) 18,4 dan 28,4
- (D) 28,4 dan 48
- (E) 28,4 dan 38

Gunakan **Petunjuk B** dalam menjawab soal nomor 73 sampai nomor 75

73. Pendirian perusahaan Pelayaran Nasional Indonesia (PT. PELNI) bermula dengan dikeluarkannya Surat Keputusan Bersama (SKB) antara Menteri Perhubungan dan Menteri Pekerjaan Umum Tahun 1950.

SEBAB

Pemerintah Belanda menolak untuk mengubah status maskapai pelayaran Belanda yang beroperasi di Indonesia.

74. Keadaan yang dikemukakan dalam bacaan di atas menyebabkan kurva permintaan angkut (*freight*) kapal laut kategori besar bergeser ke kanan.

SEBAB

Kurva permintaan menurun dari kiri atas ke kanan bawah.

75. Keadaan yang dikemukakan dalam bacaan di atas menyebabkan penurunan biaya angkut komoditas seperti mobil, sehingga dalam industri mobil biaya marginalnya menurun.

SEBAB

Bila biaya rata-rata menurun, biaya marginalnya juga menurun.