

MATA UJIAN : EKONOMI, SEJARAH, GEOGRAFI DAN IPS TERPADU
TANGGAL UJIAN : 1 MARET 2009
WAKTU : 90 MENIT
JUMLAH SOAL : 75

Keterangan	: Mata Ujian EKONOMI	nomor 1 sampai nomor 20
	Mata Ujian SEJARAH	nomor 21 sampai nomor 40
	Mata Ujian GEOGRAFI	nomor 41 sampai nomor 60
	Mata Ujian IPS TERPADU	nomor 61 sampai nomor 75

EKONOMI

Gunakan **Petunjuk A** dalam menjawab soal nomor 1 sampai 10

1. Berikut ini adalah pernyataan *positive economics* yaitu ...

- (A) apabila produksi BBM turun maka harga akan naik
- (B) subsidi harus ditingkatkan agar harga BBM tetap murah
- (C) sebaiknya pemerintah mengurangi impor beras agar petani dalam negeri sejahtera
- (D) pemerintah sebaiknya sering mengadakan operasi pasar agar harga stabil
- (E) untuk mengurangi pengangguran, seharusnya pemerintah mengadakan program padat karya

2. Pada tahun 1950, Pemerintah RI pernah melakukan kebijakan yang dikenal dengan kebijakan gunting Sjafrudin, yaitu uang yang nilainya Rp 5,00 ke atas nilainya dipotong 50%. Hal ini merupakan kebijakan moneter yang dinamakan ...

- (A) kebijakan kredit selektif
- (B) kebijakan uang ketat
- (C) kebijakan sanering
- (D) kebijakan cadangan kas
- (E) politik diskonto

3. Senjata api sangat berguna ketika dimiliki oleh polisi dan tentara, tetapi mungkin menjadi berbahaya ketika dimiliki oleh anak-anak. Hal ini menunjukkan adanya ...

- (A) *place utility*
- (B) *time utility*
- (C) *form utility*
- (D) *ownership utility*
- (E) *service utility*

4. Suatu perusahaan memproduksi 7 unit output dengan *average total cost* sebesar Rp15.000,00. Agar mampu berproduksi perusahaan harus mengeluarkan *fixed cost* sebesar Rp35.000,00. Maka, besarnya *average variable cost* adalah ...

- (A) Rp 5.000,00
- (B) Rp10.000,00
- (C) Rp15.000,00
- (D) Rp20.000,00
- (E) Rp25.000,00

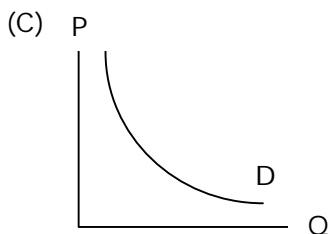
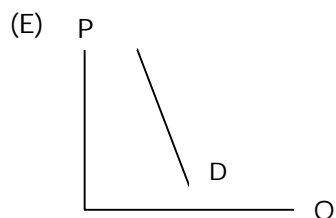
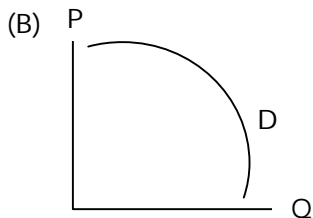
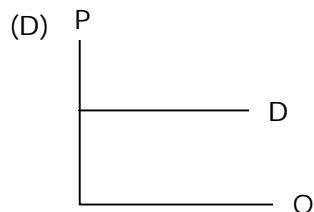
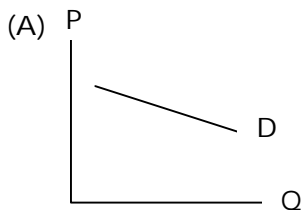
5. Jika pada tahun 2008, rata-rata pendapatan para pemilik faktor produksi di sebuah negara naik dengan peningkatan yang besar, maka terjadi peningkatan di tahun 2008 pada semua hal di bawah ini, *kecuali* ...

- (A) pendapatan nasional bruto
- (B) pendapatan nasional neto
- (C) pendapatan per kapita
- (D) pendapatan pajak pemerintah
- (E) pendapatan para pegawai pemerintah

6. Seorang pegawai sebelum mengalami kenaikan gaji dan promosi, mengonsumsi nasi bungkus ketika makan siang. Akan tetapi setelah mengalami kenaikan gaji dan mendapat promosi, pegawai tersebut tidak pernah memakan nasi bungkus. Ia lebih sering ke restoran. Maka, nasi bungkus dalam kasus tersebut merupakan barang ...

(A) pokok
(B) ekonomi
(C) *inferior*
(D) *marginal*
(E) *superior*

7. Manakah kurva permintaan berikut yang termasuk dalam kurva permintaan yang inelastis?



8. Perhatikan tabel berikut:

Q	P	TR	AR	MR
2	Rp 400,00	Rp 800,00	Rp 400,00	
4	Rp 400,00	Rp 1.600,00	Rp 400,00	Rp 400,00
6	Rp 500,00	Rp 3.000,00	Rp 500,00	-----

Berdasarkan tabel di atas, besarnya *Marginal Revenue* (MR) pada jumlah produksi sebanyak 6 unit adalah ...

(A) Rp1.400,00
(B) Rp 500,00
(C) Rp 700,00
(D) Rp 800,00
(E) Rp 900,00

9. Dalam neraca sisa terdapat akun asuransi dibayar di muka bersaldo Rp.3.600.000,00. Data penyesuaian per 31 Desember 2008 menyatakan bahwa asuransi dibayar pada tanggal 4 April 2008 untuk jangka waktu 1 tahun. Berdasarkan data tersebut di atas maka jurnal penyesuaian pada tanggal 31 Desember 2008 adalah ...

(A) Asuransi dibayar di muka	Rp 2.700.000,00	-
Beban asuransi	-	Rp 2.700.000,00
(B) Beban asuransi	Rp 2.700.000,00	-
Asuransi dibayar di muka	-	Rp 2.700.000,00
(C) Asuransi dibayar di muka	Rp 900.000,00	-
Beban asuransi	-	Rp 900.000,00
(D) Beban asuransi	Rp 900.000,00	-
Asuransi dibayar di muka	-	Rp 900.000,00
(E) Beban asuransi	Rp 3.600.000,00	-
Asuransi dibayar di muka	-	Rp 3.600.000,00

10. Berikut ini adalah data-data keuangan yang dimiliki PT. Terang Bulan tahun 2007:

• Persediaan 1 Januari 2007	Rp12.500.000
• Pembelian	Rp 34.000.000
• Retur pembelian	Rp 6.000.000
• Potongan pembelian	Rp 4.500.000
• Retur penjualan	Rp 3.000.000
• Potongan penjualan	Rp 1.500.000
• Persediaan 31 Desember 2007	Rp 9.300.000

Berdasarkan data-data tersebut di atas, maka HPP PT. Terang Bulan untuk tahun 2007 adalah ...

- (A) Rp37.200.000
 (B) Rp26.700.000
 (C) Rp25.200.000
 (D) Rp23.700.000
 (E) Rp22.200.000

Gunakan **Petunjuk B** dalam menjawab nomor 11 sampai nomor 15

11. Dalam keadaan inflasi, Bank Sentral dapat melakukan operasi pasar terbuka untuk menarik sebagian besar uang yang beredar.

SEBAB

Operasi pasar terbuka adalah kebijakan yang dijalankan oleh Bank Sentral untuk menaikkan dan menurunkan suku bunga.

12. Banyaknya permintaan suatu barang tergantung pada banyak sedikitnya barang yang diproduksi.

SEBAB

Keseimbangan pasar dipengaruhi kurva penawaran dan permintaan.

13. Pada pasar yang memiliki sifat permintaan inelastis, produsen cenderung untuk menaikkan harga.

SEBAB

Kenaikan harga pada permintaan yang inelastis akan menaikkan jumlah penerimaan penjualan.

14. Penurunan tingkat diskonto dan menaikkan *cash ratio* oleh Bank Sentral dapat menambah jumlah uang beredar.

SEBAB

Pengadaan uang di masyarakat ditentukan melalui penciptaan uang kartal dan uang giral oleh bank umum.

15. Jika nilai ekspor Indonesia meningkat maka nilai tukar rupiah akan menguat.

SEBAB

Persediaan dollar meningkat dengan adanya devisa yang dihasilkan dari ekspor.

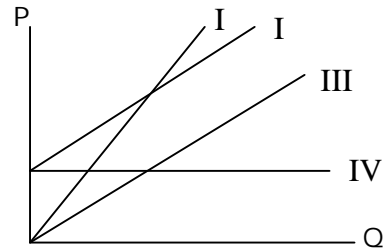
Gunakan **Petunjuk C** dalam menjawab soal nomor 16 sampai nomor 20

16. Diantara barang-barang berikut ini, yang merupakan barang ekonomi adalah ...
- (1) Udara segar yang ada di kawasan industri
 - (2) Air di kawasan gersang
 - (3) Air minum segar di kawasan pesisir pantai
 - (4) Lahan hijau di pemukiman padat penduduk
17. Yang termasuk dalam uang yang sangat liquid adalah ...
- (1) cek
 - (2) travel cek
 - (3) deposito
 - (4) uang kartal
18. Dalam teori moneter, nilai uang bisa naik atau turun. Naik turunnya nilai uang dikenal dengan istilah-istilah berikut ...
- (1) revaluasi
 - (2) devaluasi
 - (3) depresiasi
 - (4) represiasi

19. Berikut ini merupakan barang-barang yang mempunyai elastisitas lebih dari satu, *kecuali* ...

- (1) beras
- (2) mobil
- (3) gula
- (4) TV

20. Perhatikanlah kurva *Break Even Point Curve* (BEP) berikut ini:



Berdasarkan kurva BEP tersebut, pernyataan berikut ini yang BENAR adalah ...

- (1) kurva I menggambarkan *total revenue*
- (2) kurva IV menggambarkan *average fixed cost*
- (3) kurva III menggambarkan *total variable cost*
- (4) kurva IV menggambarkan *total profit*

SEJARAH

Gunakan **Petunjuk A** dalam menjawab soal nomor 21 sampai nomor 30

21. Masyarakat Indonesia pada masa perundagian telah mengenal aturan pembagian kerja, karena ...
- (A) mereka telah hidup menetap
 - (B) merupakan masyarakat dengan kehidupan *food producing*
 - (C) teknologi perundagian memerlukan tenaga yang memiliki keahlian khusus
 - (D) budaya undagi dapat diproduksi oleh masyarakat yang telah maju hidup dalam kelompok-kelompok suku
22. Menurut Perjanjian Bongaya (1667) daerah Menado diakui oleh VOC sebagai daerah yang berada dalam lingkungan kerajaan ...
- (A) Makasar
 - (B) Wajo
 - (C) Bugis
 - (D) Mandar
 - (E) Ternate
23. Perang yang terjadi pada tanggal 7 Desember 1941 yang dilancarkan oleh Jepang didasarkan atas doktrin Hakko Ichu yang dibangun dengan pandangan ...
- (A) membebaskan bangsa-bangsa Asia dan penjajahan barat
 - (B) persediaan sumber daya alam Jepang tidak mencukupi kebutuhan industri Jepang
 - (C) bangsa-bangsa Asia perlu diperintah sebuah imperium dengan Jepang sebagai pemimpinnya
 - (D) Jepang patut menjadi pemimpin bangsa-bangsa Asia oleh karena keunggulannya di bidang militer dan asal usul bangsannya
 - (E) kemenangan Jepang melawan armada laut Rusia dalam perang Rusia-Jepang
24. Untuk mempertahankan kedudukannya di Indonesia, Belanda pada tahun 1946 membentuk negara-negara "boneka". Negara boneka tersebut adalah sebagai berikut, *kecuali* ...
- (A) negara Madura
 - (B) negara Pasundan
 - (C) negara Jawa Tengah
 - (D) negara Jawa Timur
 - (E) negara Sumatera Selatan
25. Pada tanggal 13 Desember 1957, PM. Djuanda menyatakan deklarasi yang dikenal "Deklarasi Djuanda", isi pokok deklarasi tersebut adalah ...
- (A) persatuan partai-partai politik
 - (B) deklarasi partai pemenang pemilu
 - (C) deklarasi keamanan Indonesia
 - (D) deklarasi Berdikari
 - (E) pernyataan bahwa laut antara pulau-pulau di seluruh perairan Indonesia merupakan wilayah integral RI
26. Berikut ini adalah istilah-istilah yang lekat pada periode Orde Baru, *kecuali* ...
- (A) Keluarga Berencana
 - (B) Posyandu
 - (C) azas tunggal
 - (D) berdikari
 - (E) Pelita
27. Pengelompokan dan kemudian penyederhanaan partai-partai politik selama kurun waktu 1968-1970 dapat dipandang sebagai upaya Orde Baru untuk ...
- (A) mengikis habis kekuatan politik Orde Lama.
 - (B) meredam kelompok-kelompok kritis dalam partai politik.
 - (C) menegakkan Pancasila dan UUD 1945 secara murni dan konsekuen.
 - (D) meniadakan kekuatan-kekuatan politik yang dapat menjadi oposisi Orde Baru.
 - (E) menciptakan stabilitas politik sebagai prasyarat untuk pemulihan ekonomi.

28. Pada tanggal 21 Mei 1998 presiden Suharto menyatakan diri berhenti sebagai presiden dan menunjuk BJ Habibie sebagai penggantinya. Dasar hukum yang digunakan ialah ...
- (A) TAP MPR
 - (B) Instruksi Presiden
 - (C) Keputusan Presiden
 - (D) Pasal 8 UUD 1945
 - (E) Pasal 18 UUD 1945
29. Setelah mengalami zaman kegelapan "*the dark ages*" (abad 5 - 15) di Eropa timbul gerakan *Renaissance*, yaitu suatu gerakan yang bertujuan ...
- (A) pencerahan Eropa
 - (B) menjunjung tinggi rasio
 - (C) menjaga kemurnian bangsa Arya
 - (D) memurnikan kembali ajaran Kristen
 - (E) menghidupkan kembali kebudayaan klasik Yunani - Romawi
30. Peristiwa penting pada akhir abad ke-20 yang berpengaruh terhadap tata hubungan politik ialah ...
- (A) Perang Teluk 1990
 - (B) Uni Soviet bubar 1992
 - (C) Reunifikasi Jerman 1990
 - (D) Fakta Warsawa bubar 1991
 - (E) Pertemuan Benyamin Netanyahu dengan Yaser Arafat 1996

Gunakan **Petunjuk B** dalam menjawab soal nomor 31 sampai nomor 35

31. Jayakarta yang pada masa Pajajaran bernama Sunda Kelapa, diserang dan dikuasai oleh Fatah.

SEBAB

Purwaka Caruban (1720) menceritakan bahwa Fadhillah (orang Pasai) menyerang Sunda Kelapa atas perintah Taqarik Raja Demak.

32. Bangunan candi biasanya mempunyai patung-patung dalam bentuk relief atau tiga dimensi yang merupakan perwujudan dewa-dewa Hindu atau Budha. Bangunan-bangunan candi di Indonesia sebenarnya adalah perpaduan antara kebudayaan masyarakat Indonesia asli dan kebudayaan Hindu-Budha dari India.

SEBAB

Apabila diperhatikan lebih mendalam bentuk-bentuk candi di Indonesia lebih banyak yang berbentuk punden berundak. Bentuk punden berundak merupakan ciri bangunan-bangunan suci masyarakat Indonesia asli.

33. Pada tanggal 4 Juli 1927 atas inisiatif *Algemeene Studie Club* diadakan rapat pembentukan organisasi baru yang bernama Permufakatan Perhimpunan-Perhimpunan Politik Kebangsaan Indonesia (PPPKI).

SEBAB

Algemeene Studie Club merupakan organisasi yang dibentuk oleh Ir. Sukarno pada tahun 1925 di Bandung.

34. Setelah pertengahan abad ke-19 aliran liberalisme mulai berkembang di seluruh Eropa, termasuk Negeri Belanda.

SEBAB

Aliran liberalisme menghendaki agar semua hal yang berkaitan dengan kegiatan ekonomi diserahkan kepada usaha swasta dengan melibatkan kekuasaan pemerintah kolonial.

35. Masalah Kamboja menjadi semakin kompleks dengan adanya campur tangan pihak-pihak tertentu seperti RRC dan Vietnam.

SEBAB

Penyelesaian masalah Kamboja dilakukan di Jakarta Informal Meeting (JIM) pada tahun 1988 di kota Bandung.

Gunakan **Petunjuk C** dalam menjawab soal nomor 36 sampai nomor 40

36. Partai Komunis Indonesia sebetulnya mendapat keuntungan dengan terjadinya peristiwa PRRI/Permesta, oleh karena ...

- (1) PKI dapat mengembangkan sentimen anti Amerika
- (2) Dibubarkannya partai Masyumi oleh Presiden
- (3) Dibubarkannya Partai Sosialis Indonesia oleh Presiden
- (4) PKI dapat mengembangkan sentimen anti Malaysia.

37. Kebijakan ekonomi liberal yang berlaku sejak 1870 memunculkan banyak perkebunan swasta, yang berakibat ...

- (1) munculnya perkebunan swasta diseluruh Hindia Belanda
- (2) munculnya kelompok buruh perkebunan
- (3) munculnya kaum pengusaha pribumi
- (4) munculnya alat transportasi kereta api

38. Beberapa alasan pemerintah kolonial Hindia Belanda mendirikan sekolah-sekolah barat untuk kaum bumiputera adalah ...

- (1) pemerintah berupaya agar lulusan sekolah Belanda menjadi orang yang berkebudayaan Barat dan tidak anti Belanda
- (2) untuk mencerdaskan rakyat jajahan
- (3) pemerintah kolonial membutuhkan tenaga-tenaga terampil di bidangnya
- (4) memberikan pendidikan yang murah dan merata bagi seluruh warga pribumi

39. Pada awal abad XVI orang-orang Eropa yang datang ke Nusantara denganelayari Samudera Hindia untuk mencari jalan pelayaran ke kepulauan rempah-rempah antara lain dari ...

- (1) Portugis
- (2) Inggris
- (3) Belanda
- (4) Spanyol

40. Saat ini Asean memiliki anggota 10 negara, dibawah ini merupakan beberapa negara anggota Asean, yaitu ...

- (1) Indonesia
- (2) Malaysia
- (3) Singapura
- (4) Kamboja

GEOGRAFI

Gunakan **Petunjuk A** dalam menjawab soal nomor 41 sampai nomor 48

41. Pernyataan berikut mengenai pola curah hujan di P. Sumatera yang paling tepat adalah ...

- (A) wilayah pantai timur menerima hujan lebih banyak dibanding pantai barat
- (B) semakin ke arah pedalaman, curah hujan relatif tidak bertambah
- (C) sepanjang pantai barat dari Aceh ke Lampung, curah hujan relatif tidak berkurang
- (D) wilayah sepanjang patahan Semangko memperoleh hujan yang banyak
- (E) Aceh mengalami musim hujan lebih awal dibanding Lampung

42. Selat berikut ini yang di dalamnya terdapat batas teritorial, batas ZEE dan batas landas kontinen adalah ...

- (A) Selat Karimata dan Selat Flores
- (B) Selat Sunda dan Selat Timor
- (C) Selat Malaka dan Selat Karimata
- (D) Selat Flores dan Selat Sunda
- (E) Selat Malaka dan Selat Timor

43. Keberadaan sabana dan steppa di Pulau Sumba dan Sumbawa (NTT) mengindikasikan bahwa daerah tersebut beriklim kering, hal ini disebabkan karena ...

- (A) awan yang terbentuk hanya berasal dari penguapan air laut di sekitarnya
- (B) angin yang mendatangkan hujan adalah angin monsoon Australia
- (C) kelembaban udara cenderung rendah
- (D) musim kemarau berlangsung lebih dari 5 bulan
- (E) curah hujan relatif kecil tetapi merata sepanjang tahun

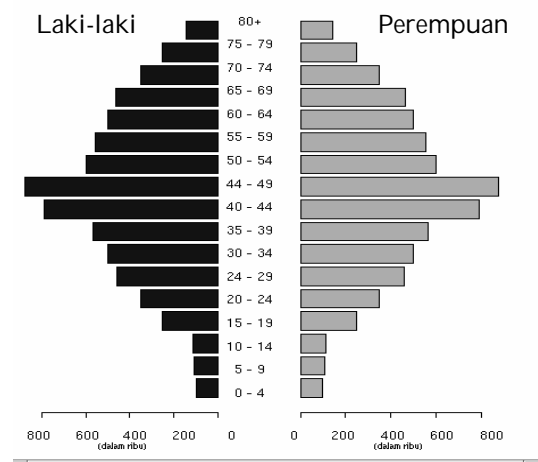
44. Pada peta tanpa skala, diketahui jarak A-B adalah 5 cm. Pada peta dengan skala 1 : 100.000, jarak yang sama adalah 20 cm. Maka skala peta A-B adalah ...

- (A) 1 : 150.000
- (B) 1 : 200.000
- (C) 1 : 400.000
- (D) 1 : 600.000
- (E) 1 : 100.000

45. Air tanah yang tersimpan di batuan sedimen adalah ...

- (A) air tanah juvenil
- (B) air tanah turbir
- (C) air tanah conat
- (D) air tanah freatis
- (E) air tanah dalam

46. Perhatikan gambar piramida penduduk di bawah ini!



Berdasarkan gambar piramida penduduk *stasioner* di atas dapat disimpulkan bahwa jumlah penduduk yang berusia ...

- (A) belum produktif lebih besar dari yang berusia produktif
- (B) muda seimbang dengan penduduk usia tua
- (C) tidak produktif sama dengan yang berusia produktif
- (D) belum produktif sama dengan yang berusia produktif
- (E) muda lebih banyak daripada usia tua

47. Air permukaan yang tingkat keasamannya tinggi dijumpai di ...

- (A) muara sungai
- (B) rawa pantai
- (C) rawa pedalaman
- (D) danau
- (E) waduk/bendungan

48. Aspek meteorologis yang perlu diperhatikan dalam pengembangan sumberdaya angin sebagai pembangkit listrik tenaga angin, adalah ...

- (A) kecepatan dan arah angin
- (B) kecepatan dan durasi angin bertiup
- (C) kontinuitas dan arah angin
- (D) kecepatan dan kontinuitas angin
- (E) kontinuitas dan durasi angin bertiup

Gunakan **Petunjuk B** dalam menjawab soal nomor 49 sampai nomor 53

49. Material hasil erosi yang terbawa air sungai sebagian besar diendapkan di bagian hilir.

SEBAB

Di bagian hilir sungai, aliran airnya lambat.

50. Pelapukan batuan yang sering dijumpai di daerah tropis adalah pelapukan mekanik (fisika).

SEBAB

Di daerah tropis sering dilanda hujan dan tingkat kelembaban tinggi.

51. Pulau Kalimantan memiliki iklim hutan hujan tropis.

SEBAB

Curah hujan di Pulau Kalimantan tergolong besar (>3.000 mm/thn), selalu lembab (RH $>75\%$) dan suhu udara rata-rata tahunannya $>18^\circ\text{C}$.

52. Sungai-sungai di wilayah Nusa Tenggara (NTB dan NTT) sebagian besar merupakan sungai perennial.

SEBAB

Sumber air sungai perennial berasal dari air hujan dan air tanah.

53. Pola keruangan suhu udara di wilayah perkotaan cenderung menurun dari pusat kota kearah pinggiran kota.

SEBAB

Kerapatan bangunan dan areal ruang hijau cenderung meningkat dari pinggiran kota ke arah pusat kota.

Gunakan **Petunjuk C** dalam menjawab soal nomor 54 sampai nomor 60

54. Gejala pemanasan global yang berlangsung saat ini disebabkan oleh banyak faktor. Untuk kasus di Indonesia, terutama disebabkan oleh ...

- (1) peningkatan pemakaian bahan bakar fosil
- (2) pemanasan udara akibat menipisnya lapisan ozon
- (3) penyusutan areal hutan dan pembakaran hutan
- (4) peningkatan suhu air laut

55. Berikut ini adalah citra foto udara berdasarkan spektrum elektromagnetiknya, *kecuali* ...

- (1) citra foto inframerah
- (2) citra foto inframerah campuran
- (3) citra foto ultra violet
- (4) citra foto ortokromatik

56. Laut transgresi yaitu laut yang terjadi karena daratan tergenang oleh air laut, contohnya antara lain ...

- (1) Laut Banda
- (2) Laut Arafuru
- (3) Laut Kaspia
- (4) Selat Malaka

57. Penurunan suhu air laut akibat *upwelling* pada umumnya terjadi di ...
- (1) laut pedalaman yang relatif sempit
 - (2) perairan laut yang berupa teluk
 - (3) perairan laut yang dekat dengan daratan
 - (4) laut yang dalam
58. El Nino merupakan gejala cuaca yang muncul secara periodik. Bagi Indonesia, El Nino menyebabkan terjadinya ...
- (1) hujan deras dan banjir
 - (2) musim paceklik
 - (3) musim labuh
 - (4) kemarau panjang
59. Dampak yang dapat ditimbulkan dari gejala pemanasan global adalah ...
- (1) areal gurun pasir menjadi bertambah luas
 - (2) terjadi kenaikan permukaan air laut
 - (3) kondisi cuaca/musim menjadi kurang stabil
 - (4) terjadi fluktuasi produksi pertanian sehingga suplai bahan makanan terganggu
60. Menurut teori gravitasi, kekuatan interaksi antar wilayah ditentukan oleh ...
- (1) jenis kebutuhan
 - (2) jumlah penduduk antar tempat
 - (3) waktu tempuh antar tempat
 - (4) jarak antar tempat

IPS TERPADU**SEKTOR PERTANIAN DI SAAT KRISIS**

Saat krisis moneter tahun 1997/1998, sektor pertanian menjadi penyelamat. Ekspor komoditas pertanian saat itu relatif baik sehingga mampu menyerap banyak tenaga kerja. Kini, saat terjadi krisis finansial global, peluang sektor pertanian menjadi penyelamat mengecil, namun menjadi momentum membangun agroindustri untuk menguasai pasar domestik.

Ketidakmampuan sektor pertanian menjadi penyelamat pada krisis kali ini adalah karena permintaan pasar internasional terhadap komoditas pertanian menurun. Ekspor kopi saat ini terhenti. Harga komoditas pertanian di pasar dunia pun menurun. Harga minyak sawit mentah (*crude palm oil/CPO*) hanya 700 dolar AS per ton, sebelumnya 1.000 dolar AS per ton. Harga karet alam Rp5.500,00 per kg, sebelumnya Rp10.000,00 per kg.

Situasi tersebut di atas berbeda dengan 1997/1998, karena harga komoditas ekspor perkebunan tinggi akibat melemahnya nilai tukar rupiah dan permintaan pasar global relatif tinggi. Hal ini memperkaya banyak petani komoditas ekspor, terutama di Sumatera, Kalimantan, dan Sulawesi.

Tahun 2009, pemerintah mengalokasikan anggaran untuk subsidi pupuk Rp 16 triliun, naik sekitar Rp 2 triliun dibandingkan 2008. Dengan demikian, alokasi pupuk urea bersubsidi menjadi 4,5 juta ton dari rencana sebelumnya 4,4 juta ton, NPK 1,3 juta ton, ZA 900.000 ton, Superphos 1 juta ton, dan pupuk organik 450.000 ton.

Gunakan **Petunjuk A** dalam menjawab soal nomor 61 sampai nomor 62

61. Diketahui garis g melalui titik $(2, 120)$ dengan gradien penurunan harga CPO (dalam persentase). Garis h melalui $(-1, -165)$ dengan gradien penurunan harga karet alam (dalam persentase). Garis g dan h akan berpotongan pada titik ...

- | | |
|---------------|---------------|
| (A) (12, 14) | (D) (14, 180) |
| (B) (12, 180) | (E) (14, 420) |
| (C) (12, 420) | |

62. Besarnya proporsi anggaran subsidi pupuk urea terhadap anggaran subsidi pupuk pada tahun 2009 jika harga per kilogramnya Rp1.500 adalah ...

- | | |
|-------------|--------------|
| (A) 40% | (D) 42,1875% |
| (B) 41,25% | (E) 42,5% |
| (C) 41.875% | |

Gunakan **Petunjuk B** dalam menjawab soal nomor 63

63. Komoditas pertanian yang harganya hanya 700 dolar seperti pada bacaan usaha perkebunannya banyak dijumpai dalam perjalanan dari Medan ke Danau Toba.

SEBAB

Sumatera Utara sangat didominasi oleh tipe iklim Koppen Aw.

Gunakan **Petunjuk C** dalam menjawab soal nomor 64 sampai nomor 65

64. Kopi merupakan salah satu komoditas ekspor pertanian seperti tertera dalam teks. Pada masa pemerintah kolonial Belanda, Gubernur Jenderal Herman Willem Daendels menggiatkan penanaman kopi di wilayah Priangan terutama di daerah ...

- (1) Cianjur
- (2) Bandung
- (3) Sumedang
- (4) Subang

65. Kenaikan atas hal yang disebutkan pertama dalam kalimat kedua pada bacaan di atas dapat menyebabkan surplus ...

- (1) neraca pertanian
- (2) neraca pembayaran
- (3) APBN
- (4) neraca perdagangan

HARGA ONDERDIL KENDARAAN BERMOTOR

Melemahnya nilai tukar rupiah terhadap dolar AS berdampak kepada harga suku cadang mobil impor. Harga hampir semua onderdil impor naik 5 persen hingga 10 persen.

Di pusat perdagangan onderdil mobil Pasar Palmerah, Jakarta Pusat harga onderdil mobil naik lumayan tinggi. Seperti *decrup* (matahari) Toyota Kijang naik menjadi Rp235.000,00, as roda menjadi Rp150.000,00, *decrup* Mitsubishi Rp250.000,00, *decrup* Honda Rp260.000,00, busi 1 set Rp160.000,00, kabel kopling Rp400.000,00, dan *clutch* set Rp375.000,00. Sementara harga onderdil mobil produksi dalam negeri, masih relatif stabil. Pemasok belum memberi kabar soal perubahan harga. Sekarang ini pasar lagi lesu, kalau harga naik, bisa makin lesu.

Sementara itu, harga onderdil sepeda motor Italia baru saja naik. Sedangkan harga onderdil motor Jepang cenderung stabil, karena beberapa bulan lalu sudah naik. kenaikannya lumayan tinggi, kurang lebih 35 persen. Sebagai contoh, koil motor Italia yang semula Rp60.000,00 kini dijual Rp75.000,00. Kenaikan harga yang lumayan besar itu membuat pemilik motor Italia terkejut.

Gunakan **Petunjuk A** dalam menjawab soal nomor 66 sampai nomor 67

66. Nilai tukar rupiah terhadap dolar Amerika mengalami puncaknya seiring dengan terjadinya peristiwa reformasi tahun 1998. Peristiwa ini terjadi karena ...
- (A) beberapa mahasiswa berdemonstrasi di depan kedubes AS
 - (B) pemerintah tidak segera mengambil langkah-langkah tepat untuk mengatasi krisis moneter sehingga berkembang menjadi krisis multidimensi
 - (C) pemogokan terjadi di sejumlah pertokoan di Jakarta, Bogor, Tangerang dan Bekasi.
 - (D) adanya penjadwalan ulang hutang-hutang luar negeri
 - (E) didudukinya gedung MPR oleh para mahasiswa dan kelompok massa pro reformasi
67. Hal yang dikemukakan oleh kalimat kedua dalam bacaan di atas akan menyebabkan ...
- (A) kurva permintaan onderdil/suku cadang mobil bergeser ke kanan
 - (B) kurva permintaan onderdil/suku cadang mobil bergeser ke kiri
 - (C) kurva penawaran onderdil/suku cadang mobil bergeser ke kanan
 - (D) kurva penawaran mobil bergeser ke kiri
 - (E) kurva penawaran dollar bergeser ke kiri

Gunakan **Petunjuk B** dalam menjawab soal nomor 68

68. Pemerintah Indonesia membentuk Dewan Ketahanan Pangan berdasarkan Keputusan Presiden No. 132 Tahun 2001. Di samping itu mengarahkan pengoptimalisasi budidaya perikanan.

SEBAB

Ketahanan pangan merupakan landasan strategis untuk peningkatan GNP.

Gunakan **Petunjuk C** dalam menjawab soal nomor 69 sampai ke 70

69. Lapisan tanah di bagian ibukota negara seperti pada bacaan tergolong sebagai endapan ...
- (1) tanah organik
 - (2) vulkanik
 - (3) fluvial
 - (4) alluvial
70. Dari data harga onderdil pada alinea kedua, maka ...
- (1) mediannya adalah Rp250.000,00
 - (2) rata-ratanya adalah Rp261.429,00
 - (3) jangkauannya adalah Rp250.000,00
 - (4) simpangan kuartilnya adalah Rp215.000,00

HARGA BBM

Penurunan harga bahan bakar minyak masih sulit dilakukan tahun ini. Alasannya, selain harga minyak mentah dunia masih belum stabil, dana subsidi bahan bakar minyak di APBN 2008 pun telah teralokasikan seluruhnya sehingga sulit ditarik kembali. Sementara harga minyak mentah dunia masih turun naik, kemarin 60 dollar AS, sekarang naik lagi 70 dollar AS per barel. Namun, tahun 2009 pasti akan diturunkan jika rata-rata harga minyak di bawah 80 dollar AS per barel.

Kebijakan menurunkan harga BBM bersubsidi bukan hanya melihat kecukupan APBN untuk subsidi dan harga minyak dunia. Akan tetapi, juga untuk menjaga agar harga BBM bersubsidi tidak sama, atau tetap lebih rendah dari BBM non subsidi. Saat ini harga BBM nonsubsidi, Pertamina Rp7.950,00 per liter, sedangkan BBM subsidi jenis Premium Rp6.000,00 per liter. Harga keekonomian Pertamina diperkirakan akan sama dengan Premium apabila harga jual rata-rata minyak mentah Indonesia (ICP) di bawah 70 dollar AS per barel. 29 Oktober 2008, ICP di pasar *spot* masih 71,77 dollar AS per barel.

Gunakan **Petunjuk A** dalam menjawab soal nomor 71

71. Logaritma dengan basis 10 dari perkalian bilangan-bilangan yang muncul pada alinea pertama adalah ...

- (A) $1 + \log 3,36$
- (B) $2 + \log 3,36$
- (C) $3 + \log 3,36$
- (D) $4 + \log 3,36$
- (E) $5 + \log 3,36$

Gunakan **Petunjuk B** dalam menjawab soal nomor 72 sampai nomor 73

72. Aspal adalah termasuk golongan mineral seperti komoditas pada bacaan yang harganya disebut belum stabil.

SEBAB

Komoditas yang dibahas dalam bacaan tergolong sebagai mineral organik.

73. Bacaan di atas tidak membahas komoditas yang termasuk golongan mineral Ores.

SEBAB

Bacaan di atas hanya membahas komoditas yang tergolong sebagai bahan galian vital.

Gunakan **Petunjuk C** dalam menjawab soal nomor 74 sampai nomor 75

74. Berikut ini beberapa negara yang menjadi anggota organisasi negara pengekspor minyak atau OPEC yang bermarkas di Wina, Austria, kecuali ...

- (1) Arab Saudi
- (2) Angola
- (3) Irak
- (4) Gabon

75. Bila hal yang dinyatakan kalimat pertama bacaan di atas dapat dilakukan (*ceteris paribus*), maka ...

- (1) kurva penawaran mobil bergeser ke kiri
- (2) kurva permintaan bensin bergeser ke kanan
- (3) kurva penawaran bensin bergeser ke kiri
- (4) kurva permintaan mobil bergeser ke kanan