

MATA UJIAN : EKONOMI, SEJARAH, GEOGRAFI DAN IPS TERPADU  
TANGGAL UJIAN : 1 MARET 2009  
WAKTU : 90 MENIT  
JUMLAH SOAL : 75

---

Keterangan	: Mata Ujian EKONOMI	nomor 1 sampai nomor 20
	Mata Ujian SEJARAH	nomor 21 sampai nomor 40
	Mata Ujian GEOGRAFI	nomor 41 sampai nomor 60
	Mata Ujian IPS TERPADU	nomor 61 sampai nomor 75

### **EKONOMI**

Gunakan **Petunjuk A** dalam menjawab soal nomor 1 sampai nomor 10

- Seorang pengusaha bermaksud untuk memperluas usahanya dengan cara membuka beberapa cabang dan bidang usaha. Motif ekonomi yang mendorong pengusaha tersebut berupa ...
  - hasrat mendapat keuntungan di setiap sektor ekonomi
  - keinginan meningkatkan kemakmuran masyarakat
  - ingin mencapai kepuasan sebagai pengusaha
  - ingin menciptakan lapangan pekerjaan
  - keinginan memperoleh penghargaan masyarakat
- Hukum Gossen II menjelaskan tentang bagaimana seorang konsumen ...
  - membagi barang tertentu untuk berbagai kebutuhan
  - memilih salah satu di antara berbagai alternatif penggunaan
  - mengalokasikan pendapatannya untuk berbagai barang dan yang menghasilkan kepuasan maksimum
  - memilih kualitas barang-barang yang memuaskan
  - menentukan nilai barang yang paling memuaskan
- Pada tahun 1950, Pemerintah RI pernah melakukan kebijakan yang dikenal dengan kebijakan gunting Sjafrudin, yaitu uang yang nilainya Rp5,00 ke atas nilainya dipotong 50%. Hal ini merupakan kebijakan moneter yang dinamakan ...
  - kebijakan kredit selektif
  - kebijakan uang ketat
  - kebijakan sanering
  - kebijakan cadangan kas
  - politik diskonto
- Ketika Bappenas menyiapkan rencana pembangunan nasional, yang harus menjadi pertimbangan adalah mengupayakan pertumbuhan dan pemerataan pembangunan. Dalam teori ekonomi untuk bisa mengukur pemerataan pembangunan, digunakan sebuah kurva yang bernama ...
  - kurva Gini
  - kurva Indiferensi
  - kurva Phillip
  - kurva Isocost
  - kurva Lorenz

5. Perhatikan tabel berikut!

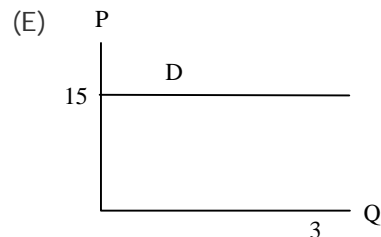
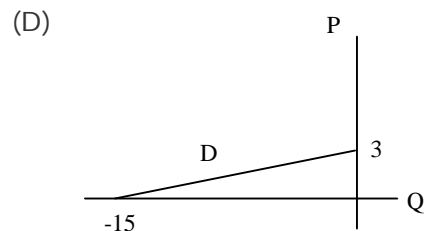
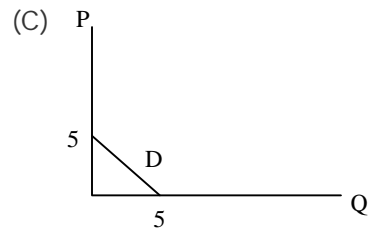
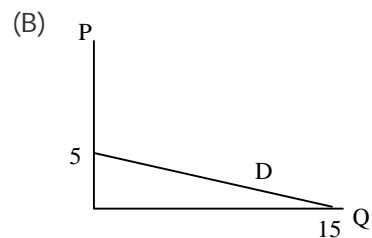
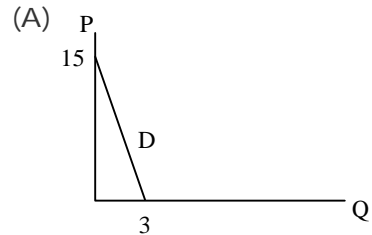
Tahun	GNP
2004	48.860
2005	52.173
2006	55.540
2007	65.925
2008	80.785

Dari data pada tabel, laju pertumbuhan ekonomi tahun 2008 adalah ...

- (A) 122,54 %  
 (B) 81,60 %  
 (C) 60,66 %  
 (D) 22,54 %  
 (E) 18,39 %
6. *Marginal utility* didefinisikan sebagai ...
- (A) manfaat keseluruhan dari hasil penjualan  
 (B) tambahan penerimaan dari hasil penjualan  
 (C) tambahan biaya akibat tambahan output  
 (D) tambahan penerimaan karena tambahan output  
 (E) manfaat tambahan yang diperoleh dari bertambahnya satu unit barang yang dikonsumsi
7. Suatu perusahaan memproduksi 7 unit output dengan *average total cost* sebesar Rp15.000,00. Agar mampu memproduksi perusahaan harus mengeluarkan *fixed cost* sebesar Rp35.000,00. Maka, besarnya *average variable cost* adalah ...
- (A) Rp 5.000,00  
 (B) Rp10.000,00  
 (C) Rp15.000,00  
 (D) Rp20.000,00  
 (E) Rp25.000,00

8. Jika diketahui bahwa persamaan matematika untuk permintaan suatu barang adalah

$$P = -\frac{1}{3}Q + 5, \text{ maka bentuk kurva yang tepat untuk permintaan tersebut adalah ...}$$



9. Berikut adalah transaksi PT. Sunyi Senyap yang terjadi pada tahun 2007.

- 31/3 Pembelian persediaan senilai Rp12 juta dengan syarat 2/10, n/45.
- 9/4 Pembayaran pembelian tanggal 31/3.
- 20/4 Penjualan senilai Rp15 juta dengan syarat n/30.
- 20/5 Menerima pembayaran penjualan bulan sebelumnya.
- 30/5 Pembelian persediaan secara tunai senilai Rp 5 juta.
- 5/6 Penjualan Rp 10 juta dengan syarat n/30.

Jika diketahui posisi kas pada tanggal 1 Januari 2007 adalah sebesar Rp 10 juta, maka hitunglah posisi kas pada tanggal 30 Juni 2007 berdasarkan transaksi tersebut di atas ...

- (A) Rp 8.000.000
  - (B) Rp 8.240.000
  - (C) Rp13.240.000
  - (D) Rp18.000.000
  - (E) Rp18.240.000
10. Berikut ini adalah data-data keuangan yang dimiliki PT. Terang Bulan tahun 2007:
- |                               |              |
|-------------------------------|--------------|
| • Persediaan 1 Januari 2007   | Rp12.500.000 |
| • Pembelian                   | Rp34.000.000 |
| • Retur pembelian             | Rp 6.000.000 |
| • Potongan pembelian          | Rp 4.500.000 |
| • Retur penjualan             | Rp 3.000.000 |
| • Potongan penjualan          | Rp 1.500.000 |
| • Persediaan 31 Desember 2007 | Rp 9.300.000 |

Berdasarkan data-data tersebut di atas, maka HPP PT. Terang Bulan untuk tahun 2007 adalah ...

- (A) Rp37.200.000
- (B) Rp26.700.000
- (C) Rp25.200.000
- (D) Rp23.700.000
- (E) Rp22.200.000

Gunakan **Petunjuk B** dalam menjawab soal nomor 11 sampai nomor 15

11. Tingkat investasi akan semakin turun jika suku bunga di bank semakin rendah.

SEBAB

Tingkat pertumbuhan ekonomi sangat ditentukan oleh tingkat investasi.

12. Apabila tingkat bunga turun maka masyarakat akan lebih memilih investasi dibanding menabung di bank.

SEBAB

Apabila (*Marginal Efficiency Capital*) MEC lebih tinggi dibandingkan dengan tingkat bunga investasi akan lebih menguntungkan.

13. Kenaikan pendapatan akan meningkatkan permintaan terhadap barang normal.

SEBAB

Kenaikan pendapatan akan menurunkan permintaan terhadap barang *giffen*.

14. Kepuasan konsumsi sebuah barang akan mengalami penurunan dan bahkan bisa bernilai negatif.

SEBAB

Kepuasan maksimum terjadi pada saat kepuasan marginal sama dengan nol.

15. Menaikkan giro wajib minimum adalah upaya bank sentral untuk mengurangi jumlah uang beredar.

SEBAB

Tugas Bank Sentral Dalam UU No. 23 Tahun 1999 disebutkan bahwa BI memiliki independensi kebijakan moneter.

Gunakan **Petunjuk C** dalam menjawab soal nomor 16 sampai nomor 20

16. Berikut ini adalah ekonom yang termasuk mazhab klasik ...

- (1) David Ricardo
- (2) Francois Quesney
- (3) Adam Smith
- (4) Alfred Marshall

17. Berikut ini yang merupakan pengaruh positif perdagangan luar negeri, yaitu ...

- (1) perpindahan teknologi
- (2) peningkatan produksi dalam negeri
- (3) peningkatan pendapatan suatu negara
- (4) pengaruh sosial politik yang semakin membaik

18. Di bawah ini yang merupakan fungsi uang adalah ...

- (1) alat satuan hitung
- (2) alat pembayaran
- (3) alat tukar
- (4) alat investasi

19. Tingkat utilitas sebuah es teh manis adalah  $U = 9x^2 - x^3$ , maka ...

- (1) kepuasan maksimum pada saat gelas ke 6
- (2) nilai marginal utility maksimum pada saat gelas ketiga
- (3) gelas kesembilan membuat konsumen tidak merasakan kepuasan
- (4) total utility pada saat gelas ke 10 bernilai negatif

20. Cara-cara yang bisa ditempuh untuk meningkatkan ekspor adalah ...

- (1) menaikkan bea ekspor
- (2) mengadakan devaluasi
- (3) mengetatkan aturan ekspor
- (4) memberikan subsidi kepada eksportir

**SEJARAH**

Gunakan **Petunjuk A** dalam menjawab soal nomor 21 sampai nomor 30

21. Masyarakat Indonesia pada masa perundagian telah mengenal aturan pembagian kerja, karena ...
- (A) mereka telah hidup menetap
  - (B) merupakan masyarakat dengan kehidupan *food producing*
  - (C) teknologi perundagian memerlukan tenaga yang memiliki keahlian khusus
  - (D) budaya undagi dapat diproduksi oleh masyarakat yang telah maju
  - (E) hidup dalam kelompok-kelompok suku
22. Pada masa pendudukan Jepang di Indonesia, pemerintah pendudukan Jepang membentuk suatu organisasi dengan nama Fujinkai. Organisasi tersebut pada dasarnya merupakan ...
- (A) barisan pemuda pribumi
  - (B) barisan pembantu polisi
  - (C) barisan perempuan
  - (D) barisan pelajar
  - (E) barisan pegawai pemerintah
23. Buku yang mengkritik pelaksanaan Tanam Paksa yang berjudul *Regulation of Sugar Contracts in Java* yang ditulis oleh ...
- (A) Isaac Fransen van der Putte.
  - (B) Dirk van Hogendorp
  - (C) Van De Venter
  - (D) LPJ Du bus
  - (E) Van der Plas
24. Pada masa pendudukan Jepang seluruh pegawai Indonesia setiap pagi diharuskan menghormati Kaisar Jepang dengan membungkuk badan kearah Tokyo, nama kegiatan tersebut ...
- (A) Seikeirei
  - (B) Kimigayo
  - (C) Kamikaze
  - (D) Hakko I Chiu
  - (E) Banzai
25. Pada tanggal 13 Desember 1957, PM. Djuanda menyatakan deklarasi yang dikenal "Deklarasi Djuanda", isi pokok deklarasi tersebut adalah ...
- (A) persatuan partai-partai politik
  - (B) deklarasi partai pemennng pemilu
  - (C) deklarasi keamanan Indonesia
  - (D) deklarasi Berdikari
  - (E) pernyataan bahwa laut antara pulau-pulau di seluruh perairan Indonesia merupakan wilayah integral RI
26. Latar belakang terbentuknya Gerakan Non Blok pada tahun 1961 adalah ...
- (A) tidak harmonisnya hubungan kerjasama negara-negara yang sedang berkembang dengan negara maju
  - (B) meningkatnya ketegangan antara Blok Barat dan Blok Timur
  - (C) adanya kemiskinan yang dihadapi negara-negara selatan
  - (D) sebagai konsekuensi dari konstelasi politik dunia pasca Perang Dunia I
  - (E) adanya ketegangan antara negara-negara Asia Afrika
27. Perlawanan rakyat Vietnam Utara terhadap penjajahan Perancis di bawah pimpinan Ho Chi Minh terkenal sangat tangguh. Benteng terakhir pertahanan Perancis di Vietnam Utara yang dihancurkan oleh tentara Ho Chi Minh adalah ...
- (A) Bao Dai
  - (B) Dien Bien Phu
  - (C) Ngo Dinh Diem
  - (D) Saigon
  - (E) Hanoi
28. Berikut ini merupakan istilah-istilah yang melekat pada pemerintahan orde baru, kecuali ...
- (A) Keluarga Berencana
  - (B) Posyandu
  - (C) azas tunggal
  - (D) berdikari
  - (E) Pelita

29. Pada masa Demokrasi Terpimpin, pemerintah Indonesia mengeluarkan berbagai macam kebijakan seperti di bawah ini, *kecuali* ...

- (A) politik konfrontasi
- (B) Manipol USDEK
- (C) pembentukan DPR GR
- (D) pancakarya
- (E) Nasakom

30. Salah satu keberhasilan kabinet Ali Sastromidjojo dalam menjalankan haluan politik luar negeri bebas aktif adalah ...

- (A) pembukaan hubungan diplomatik dngan negara-negara Timur Tengah
- (B) pengembalian Irian Barat ke pangkuan RI
- (C) penyelenggaraan Konferensi Gerakan Non Blok
- (D) penyelenggaraan Konferensi Asia Afrika
- (E) pembentukan kerjasama ekonomi Asia lahirnya Asean

Gunakan **Petunjuk B** dalam menjawab soal nomor 31 sampai nomor 35

31. Patung Garuda Wisnu yang terdapat di candi Belahan dibuat sebagai perwujudan Raja Airlangga.

SEBAB

Pada umumnya patung-patung yang ditemukan di Jawa Timur dibuat sebagai perwujudan raja atau ratu.

32. Organisasi *Indische Partij* yang didirikan pada tahun 1912 adalah organisasi yang menggantikan *Indische Bond* sebagai organisasi kaum Indo dan Eropa di Indonesia.

SEBAB

Organisasi *Indische Partij* dipimpin oleh Douwes Dekker, dr. Tjiptomangunkusumo dan Suwardi Suryaningrat yang memperjuangkan "*Indie voor de Indies*" (Hindia untuk orang Hindia).

33. Pada masa kekuasaan Gubernur Jendral Daendels dibangun jalan raya yang menghubungkan daerah-daerah Jawa dari Anyer sampai Panarukan.

SEBAB

Daendels mendapat tugas untuk mempertahankan pulau Jawa dari serangan Perancis.

34. Masalah Kamboja menjadi semakin kompleks dengan adanya campur tangan pihak-pihak tertentu seperti RRC dan Vietnam.

SEBAB

Penyelesaian masalah Kamboja di lakukan di Jakarta Informal Meeting (JIM) pada tahun 1988 di kota Bandung.

35. Krisis terusan Suez tahun 1956 terjadi akibat upaya nasionalisasi terusan tersebut oleh Gamal Abdul Nasser, presiden Mesir waktu itu.

SEBAB

Mesir merasa dirugikan oleh pengelolaan terusan Suez oleh Inggris.

Gunakan **Petunjuk C** dalam menjawab soal nomor 36 sampai nomor 40

36. Di bawah ini adalah candi yang dapat pengaruh agama Hindu ...

- (1) Prambanan
- (2) Borobudur
- (3) Candi Sewu
- (4) Mendut

37. Kebijakan ekonomi liberal yang berlaku sejak 1870 memunculkan banyak perkebunan swasta, yang berakibat ...

- (1) munculnya perkebunan swasta diseluruh Hindia Belanda
- (2) munculnya kelompok buruh perkebunan
- (3) munculnya kaum pengusaha pribumi
- (4) munculnya alat transportasi kereta api

38. Pada Sidang Dewan Keamanan PBB tanggal 24 Januari 1949, Amerika Serikat mengeluarkan resolusi yang disetujui oleh anggota PBB. Resolusi tersebut berisi ...
- (1) hentikan permusuhan Indonesia – Belanda
  - (2) bebaskan presiden dan wakil presiden RI yang ditahan Belanda.
  - (3) memerintahkan pada Komisi Tiga Negara untuk memberikan laporan lengkap mengenai situasi di Indonesia sejak 19 Desember 1948.
  - (4) Belanda keluar dari Indonesia
39. Pada tahun 1886 terjadi perlawanan petani kerusuhan di Ciomas, Jawa Barat. Berikut ini faktor-faktor penyebab kerusuhan tersebut yaitu ...
- (1) petani diwajibkan mengangkut hasil panen milik tuan tanah dari sawah ke gudang-gudang yang sangat jauh jaraknya.
  - (2) petani yang datang terlambat ke tempat kerja dikenakan sanksi yang sangat berat
  - (3) petani yang tidak bisa membayar hutang, tanah, harta benda miliknya disita oleh tuan tanah
  - (4) adanya pungutan cukai yang terlampau tinggi
40. Dalam Perang Dunia ke II, saling berhadapan antara negara-negara yang termasuk blok sentral dan negara-negara yang termasuk blok sekutu. Negara yang termasuk blok sentral adalah .....
- (1) Amerika Serikat
  - (2) Jerman
  - (3) Inggris
  - (4) Jepang

**GEOGRAFI**

Gunakan **Petunjuk A** dalam menjawab soal nomor 41 sampai nomor 50

41. Ekosistem pesisir yang bukan alami adalah ...

- (A) lamun
- (B) tambak
- (C) estuaria
- (D) pantai berpasir
- (E) mangrove

42. Faktor internal yang mendorong persebaran hewan adalah ...

- (A) persediaan makanan kurang
- (B) perilaku manusia
- (C) kecepatan reproduksi
- (D) kerusakan habitat
- (E) persediaan makanan banyak

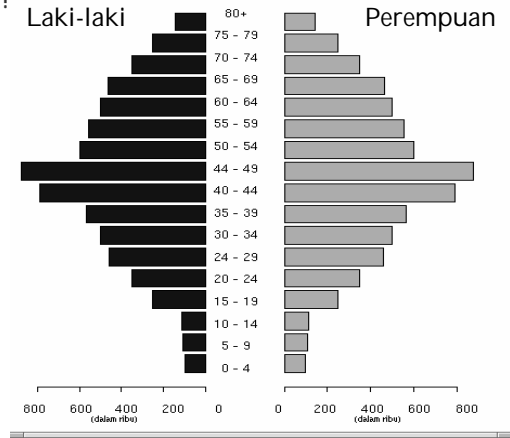
43. Pada peta tanpa skala, diketahui jarak A-B adalah 5 cm. Pada peta dengan skala 1 : 100.000, jarak yang sama adalah 20 cm. Maka skala peta A-B adalah ...

- (A) 1 : 150.000
- (B) 1 : 200.000
- (C) 1 : 400.000
- (D) 1 : 600.000
- (E) 1 : 100.000

44. Aneka industri merupakan industri yang sangat penting karena ...

- (A) modalnya besar
- (B) tenaga kerjanya sedikit
- (C) menghasilkan barang kebutuhan orang banyak
- (D) merupakan industri patungan
- (E) bersifat padat modal

45. Perhatikan gambar piramida penduduk di bawah ini!



Berdasarkan gambar piramida penduduk *stasioner* di atas dapat disimpulkan bahwa jumlah penduduk yang berusia ...

- (A) belum produktif lebih besar dari yang berusia produktif
- (B) muda seimbang dengan penduduk usia tua
- (C) tidak produktif sama dengan yang berusia produktif
- (D) belum produktif sama dengan yang berusia produktif
- (E) muda lebih banyak daripada usia tua

46. Di bawah ini adalah tabel pertumbuhan penduduk dunia.

Tahun	Jumlah penduduk (juta)
1	250
1650	500
1830	1000
1930	2000
1976	4000
1990	5321
2000	5982

Jika ditinjau dari jumlah peningkatan yang terjadi dapat disimpulkan bahwa ...

- (A) penduduk dunia akan terus bertambah
- (B) pertambahan penduduk selalu berlipat dua
- (C) waktu yang diperlukan untuk menjadi dua kali lipat semakin pendek
- (D) waktu yang diperlukan untuk menjadi dua kali lipat semakin lama
- (E) waktu yang diperlukan untuk menjadi dua kali lipat tidak menentu



47. Dalam upaya menjaga kelestarian alam, pemerintah daerah menetapkan suatu rencana tata ruang. Yang dimaksud dengan ruang meliputi ...

- (A) ruang darat, udara, dan laut
- (B) ruang darat, udara, dan air
- (C) ruang darat, udara, sungai, dan laut
- (D) ruang darat, angkasa, dan air
- (E) ruang darat, angkasa, dan laut

48. Ditinjau dari segi kepentingan negara khususnya di bidang pertahanan dan keamanan, maka beberapa industri tertentu dikelompokkan dalam industri strategis. Berikut ini adalah industri yang tergolong strategis, *kecuali* industri ...

- (A) besi baja (PT. Krakatau Steel)
- (B) perkapalan (PT. PAL)
- (C) pesawat terbang (PT. DI)
- (D) tekstil (PT. Centex)
- (E) pupuk (PT. Petrokimia)

49. Indonesia mempunyai jumlah dan jenis flora dan fauna yang lebih banyak dari kawasan lain di dunia. Hal ini disebabkan oleh ...

- (A) iklim
- (B) iklim dan tanah
- (C) topografi
- (D) tanah dan morfologi
- (E) topografi dan morfologi

50. Salah satu yang mempengaruhi masalah penempatan suatu industri adalah ketersediaan bahan mentah atau bahan baku. Hal-hal yang perlu diperhatikan bagi ketersediaan bahan mentah/baku adalah seperti di bawah ini, *kecuali* ...

- (A) kualitas dan kuantitasnya
- (B) harga dan mutunya
- (C) keterjangkauan dan kemudahan aksesnya
- (D) tingkat kesukaran dalam mengeksploitasinya
- (E) kepemilikan dan investasinya

Gunakan **Petunjuk B** dalam menjawab soal nomor 51 sampai nomor 54

51. Reilly menyatakan bahwa jarak antar kota menentukan kekuatan interaksinya.

SEBAB

Jarak merupakan fungsi tingkat kemudahan.

52. Peningkatan kegiatan industri di kota menyebabkan meningkatnya pula angka urbanisasi.

SEBAB

Penduduk desa datang ke kota untuk bekerja di sektor industri.

53. Pada sebuah foto udara pankromatik areal hutan bakau dapat dikenali dari karakteristik ronanya yang gelap.

SEBAB

Hutan bakau tumbuh di pantai atau tepi sungai atau di daerah peralihan air payau.

54. Peta adalah gambaran konvensional secara selektif dari permukaan bumi dengan segala fenomenanya yang diperkecil dengan skala tertentu dan ditampilkan pada bidang datar.

SEBAB

Peta hanya menampilkan sebagian objek di permukaan bumi yang dipilih sesuai dengan tujuan pembuatan peta tersebut.

Gunakan **Petunjuk C** dalam menjawab soal nomor 55 sampai nomor 60

55. Rasio ketergantungan (*dependency ratio*) yaitu angka perbandingan yang menunjukkan besar beban tanggungan dari kelompok usia produktif (15–64). Jika angka ketergantungannya tinggi, berarti ...

- (1) pertumbuhan ekonomi akan meningkat
- (2) pendapatan per kapita akan meningkat
- (3) kemampuan menabung masyarakat meningkat
- (4) jumlah pengangguran tinggi

56. Dampak yang dapat ditimbulkan dari gejala pemanasan global adalah ...

- (1) areal gurun pasir menjadi bertambah luas
- (2) terjadi kenaikan permukaan air laut
- (3) kondisi cuaca/musim menjadi kurang stabil
- (4) terjadi fluktuasi produksi pertanian sehingga suplai bahan makanan terganggu

57. Menurut teori gravitasi, kekuatan interaksi antar wilayah ditentukan oleh ...

- (1) Jenis kebutuhan
- (2) Jumlah penduduk antar tempat
- (3) Waktu tempuh antar tempat
- (4) Jarak antar tempat

58. Faktor-faktor yang mempengaruhi interaksi desa-kota dalam teori Ullman (1987) adalah ...

- (1) *regional complementarity* (wilayah yang saling melengkapi)
- (2) *intervening opportunity* (kesempatan untuk berintervensi)
- (3) *spatial transfer ability* (kemudahan pemindahan dalam ruang)
- (4) *human interest* (kepentingan manusia atau seseorang)

59. Sumber daya budaya memiliki kekuatan yang dibangun dari komponen ...

- (1) struktur bangunan modern yang ada di kota
- (2) fisik berupa benda-benda peninggalan purbakala
- (3) sistem pemerintah dari wilayah terendah sampai tertinggi
- (4) non-fisik berupa tradisi dan adat istiadat yang berlaku di masyarakat

60. Teori sektor menyebutkan bahwa ...

- (1) kegiatan industri dan perdagangan besar, tumbuh dan berkembang mengikuti jalur jalan, sungai atau rel kereta
- (2) harga tanah yang tinggi berada di bagian tepi luar kota
- (3) permukiman kelas bawah berada di sekitar kegiatan industri
- (4) zona penglaju berada di bagian terluar struktur kota

**IPS TERPADU****KARET**

Thailand, Malaysia, dan Indonesia yang tergabung dalam Internasional Tripartite Rubber Council, sepakat bekerja sama menahan penurunan harga karet alam. Tiga negara ini menyuplai 70 persen dari 9,7 juta ton kebutuhan karet alam dunia. Kesepakatan Indonesia, Malaysia, dan Thailand dicapai dalam pertemuan khusus di Bangkok, Thailand. Kesepakatan yang dibuat tiga negara penghasil karet alam itu dapat menahan harga karet di atas 2 dollar AS per kilogram. Krisis global telah membuat harga karet terus merosot. Pada bulan Juni, harga karet alam 3,25–3,50 dollar AS per kilogram, tetapi pada bulan Oktober hanya 1,50 dollar AS per kilogram.

Guna menahan penurunan harga karet, tiga negara mewujudkannya, antara lain, melalui skema manajemen suplai. Untuk mengendalikan suplai, disepakati peremajaan kebun karet dipercepat. Saat ini sudah dilakukan peremajaan terhadap 1.120.000 hektare kebun karet di tiga negara. Peremajaan akan ditingkatkan menjadi 1.690.000 hektare pada tahun 2009. Dengan peremajaan, diperkirakan suplai karet alam di pasar internasional pada tahun 2009 akan berkurang 215.000 ton.

Gunakan **Petunjuk A** dalam menjawab soal nomor 61 sampai nomor 63

61. Negara tempat dicapainya kesepakatan seperti pada bacaan secara langsung letaknya bersebelahan dengan negara-negara ...

(A) Laos dan Burma  
(B) Vietnam dan Laos  
(C) Burma dan Vietnam  
(D) Kamboja dan Vietnam  
(E) Vietnam dan Malaysia

62. Jika 30% dari suplai tiga negara tersebut berasal dari Indonesia, maka total nilai ekspor Indonesia berdasarkan harga pada bulan Oktober adalah ...

(A) 1,455 miliar dolar AS  
(B) 2,91 miliar dolar AS  
(C) 3,0555 miliar dolar AS  
(D) 4,365 miliar dolar AS  
(E) 10,185 miliar dolar AS

63. Diketahui luas sebuah persegi dan trapesium sama dengan luas kebun karet yang direncanakan untuk diremajakan pada tahun 2009. Jika tinggi trapesium sama dengan sisi persegi, maka jumlah sisi sejajar dari trapesium tersebut adalah ...

(A) 130 satuan panjang  
(B) 260 satuan panjang  
(C) 1300 satuan panjang  
(D) 2600 satuan panjang  
(E) 3900 satuan panjang

Gunakan **Petunjuk C** dalam menjawab soal nomor 64 sampai nomor 65

64. Perkebunan karet di Indonesia pertama kali diperkenalkan oleh Hofland pada tahun 1864 di daerah ...

(1) Pamanukan  
(2) Kediri  
(3) Ciasem  
(4) Sumedang

65. Di pasar internasional, komoditas yang menjadi pembahasan dalam bacaan di atas berada dalam pasar ...

(1) monopoli  
(2) monopsoni  
(3) persaingan monopolistik  
(4) oligopoli

**PEMBIAYAAN PEMBANGUNAN JALAN TOL**

PT ABC memperoleh persetujuan kredit senilai Rp 5 triliun dari sindikasi dua bank untuk pembangunan jalan tol Cikampek–Palimanan. Bank Mandiri dan BCA menyatakan kesediaannya untuk berperan sebagai pengatur bersama (*joint arranger*) dalam proyek ini. Pembangunan jalan tol sepanjang 115 kilometer tersebut membutuhkan dana Rp 6,9 triliun. Sindikasi dua bank tersebut akan mendanai Rp 5 triliun, sisanya berupa ekuitas perusahaan. Jumlah dana masing-masing yang akan diberikan Bank Mandiri dan BCA masih dalam tahap pembicaraan kedua bank tersebut.

Ruas Cikampek-Palimanan merupakan yang terpanjang dari proyek tol lintas Jawa yang disebut Trans-Java, yang menghubungkan kota Merak di sebelah barat pulau Jawa dengan Banyuwangi di sebelah timur. PT ABC memiliki hak konsesi untuk membangun dan mengoperasikan jalan tol tersebut untuk masa 35 tahun.

Pembiayaan kepada PT ABC belum sampai pada tahap perjanjian kredit. Nilai kredit yang disiapkan Bank Mandiri dan BCA antara Rp 4,5 triliun dan Rp 5 triliun. Selain Cikampek-Palimanan masih ada tiga ruas jalan tol lagi yang diincar Bank Mandiri. Total alokasi kredit Bank Mandiri untuk pembiayaan tol pada tahun 2007 mencapai Rp 11 triliun dan sudah tersalurkan Rp 7 triliun.

Gunakan **Petunjuk A** dalam menjawab soal nomor 66 sampai nomor 68

66. Dalam bacaan disebutkan bahwa jalan tol lintas Jawa akan menghubungkan Merak di Barat dan Banyuwangi di sebelah Timur. Pada awal abad 19 juga telah dibangun jalan oleh penguasa asing, yaitu ...

- (A) Raffles untuk mempertahankan jalur perdagangan dari Malaka ke Maluku
- (B) Tjarda van Starkenborg untuk meningkatkan transportasi di Jawa
- (C) van den Bosch untuk mempermudah impor alat-alat untuk menunjang perluasan perkebunan
- (D) van Stein Calenfels untuk sarana ekspor
- (E) Daendels untuk mempertahankan Pulau Jawa dari serangan Inggris

67. Kota di sebelah Timur seperti terdapat dalam bacaan dikenal sebagai salah satu pusat industri ...

- (A) kertas
- (B) ikan kaleng
- (C) tekstil
- (D) ekstraktif
- (E) minyak goreng

68. Jika volume kendaraan yang melewati ruas jalan tol yang disebut pada bacaan rata-rata 50.000 kendaraan per bulan dengan biaya Rp6.000,00 per kendaraan, maka perbandingan penghasilan PT ABC per tahun terhadap biaya yang dikeluarkan per km adalah ...

- (A) 6
- (B) 0,6
- (C) 0,06
- (D) 0,006
- (E) 0,0006

Gunakan **Petunjuk B** dalam menjawab soal nomor 69 sampai nomor 70

69. Dalam bacaan disebut tentang dana-dana yang diperlukan untuk memperluas pembangunan jalan tol di Pulau Jawa.

SEBAB

Perluasan infrastruktur di Pulau Jawa dibutuhkan untuk mempermudah transportasi sarana pertahanan ke seluruh wilayah Indonesia.

70. Prasarana yang akan dibangun sebagaimana dinyatakan dalam kalimat pertama pada bacaan di atas merupakan semi *public good*.

SEBAB

Jalan tol bersifat *non rivalry* tapi *excludable* (tidak *non exclusive*).

**INDEKS HARGA SAHAM DI AS**

Saham-saham AS merosot, menyusul kekhawatiran bahwa rencana penyelamatan 700 miliar dolar AS yang disetujui oleh Dewan Perwakilan Rakyat (DPR) AS tidak akan cukup menggairahkan pasar kredit dan mencegah sebuah resesi. DPR memutuskan menyetujui paket penyelamatan tersebut dengan suara 263–171 setelah menolak rancangan undang-undang (RUU) versi awal dengan suara 228-205. Senat AS telah menyetujui paket yang sama dan telah ditandatangani oleh Presiden George W Bush.

Indikator utama saham AS naik lebih dari satu persen sesaat setelah paket tersebut disetujui, namun kemudian merosot pada penutupan perdagangan. Indeks Standard & Poor's 500 jatuh 15,05 poin, atau 1,5 persen menjadi 1.099,23. Indeks Dow Jones dari saham-saham blue chips turun 157,47 poin, atau 1,50 persen, menjadi 10.325,48. Indeks komposit Nasdaq merosot 29,33 poin, atau 1,48 persen menjadi 1.947,39.

Wells Fargo mengajukan penawaran Wachovia dengan sebuah penandatanganan dan persetujuan dewan untuk membeli Wachovia sebagai sebuah perusahaan "intact" (utuh) dalam sebuah merger saham-untuk-saham yang dapat dilakukan tanpa bantuan. Wachovia merekomendasikan kepada para pemegang sahamnya untuk menerima penawaran dari Wells Fargo, di mana setiap saham biasa Wachovia dapat ditukar menjadi 0,2 saham biasa Wells Fargo, mencerminkan nilai 7 dolar AS per saham Wachovia.

Gunakan **Petunjuk A** dalam menjawab soal nomor 71 sampai ke nomor 73

71. Di negara yang sedang mengalami kemerosotan seperti pada bacaan terdapat bentukan morfologi hasil pengikisan air yang terkenal di dunia, yaitu bentuk ...

- (A) air terjun Niagara
- (B) ngarai Grand Canyon
- (C) lembah Tennessy
- (D) pantai Waikiki
- (E) terusan Panama

72. Jika seorang investor memiliki 25 lot (1 lot = 500 lembar) saham Wachovia, maka banyaknya saham Wachovia yang dimilikinya sama dengan ... saham Wells Fargo dengan nilai sebesar ...

- (A) 2500 lot ; \$87.500
- (B) 25 lot ; \$87.500
- (C) 25 lot ; \$17.500
- (D) 5 lot ; \$87.500
- (E) 5 lot ; \$17.500

73. Di Indonesia, komoditas yang disebut pertama dalam bacaan di atas saat ini diperdagangkan di ...

- (A) Bank Indonesiaa
- (B) Bursa Efek Jakarta
- (C) Bursa Efek Indonesia
- (D) Bank Umum
- (E) Bapepam

Gunakan **Petunjuk B** dalam menjawab soal nomor 74

74. Dari semua perusahaan yang diuraikan pada bacaan hanya Wells Fargo yang dapat dikenali sebagai perusahaan yang produk usahanya dapat digambarkan dengan simbol area.

SEBAB

Wells Fargo sebagai badan usaha jika ditampilkan pada peta juga akan tergambar dengan simbol area.

Gunakan **Petunjuk C** dalam menjawab soal nomor 75

75. Amerika Serikat yang saham-sahamnya merosot seperti tercantum dalam bacaan, pada akhir Perang Dunia II ketika Jepang menyerah kalah, sudah mengadakan perundingan perdamaian dengan kepala-kepala negara ...

- (1) Inggris
- (2) Perancis
- (3) Uni Soviet
- (4) Spanyol